

答案
第 1 讲 初高中衔接课程

一元二次方程根的判别式和根与系数关系

二、例题分析

例 1. 关于 x 的方程 $x^2 - 2x + m = 0$ 的一根为 2, 求另一根和 m 的值。

解析: 由韦达定理可得 $x_1 + x_2 = -p = 2$ 则另一根为 $2-2=0$;

$x_1 x_2 = q = m$, 则 $m=0$ 。

答案: 另一根为 0, $m=0$

例 2. 已知 α, β 是方程 $2x^2 - 3x - 1 = 0$ 的两根, 不解方程, 求下列各式的值。

(1) $\frac{1}{\alpha} + \frac{1}{\beta}$ (2) $(\alpha+1)(\beta+1)$

(3) $\alpha^2 + \beta^2$ (4) $|\alpha - \beta|$

(5) $\alpha^3 + \beta^3$

解析: 根据韦达定理得 $\alpha + \beta = -\frac{-3}{2} = \frac{3}{2}$, $\alpha\beta = \frac{-1}{2} = -\frac{1}{2}$; 则

(1) $\frac{1}{\alpha} + \frac{1}{\beta} = \frac{\alpha + \beta}{\alpha\beta} = \frac{\frac{3}{2}}{-\frac{1}{2}} = -3$

(2) $(\alpha+1)(\beta+1) = \alpha\beta + \alpha + \beta + 1 = \frac{3}{2} - \frac{1}{2} + 1 = 2$

(3) $\alpha^2 + \beta^2 = (\alpha + \beta)^2 - 2\alpha\beta = \frac{9}{4} + 1 = \frac{13}{4}$

(4) $|\alpha - \beta| = \sqrt{(\alpha - \beta)^2} = \sqrt{(\alpha + \beta)^2 - 4\alpha\beta} = \sqrt{\frac{9}{4} + 2} = \frac{\sqrt{17}}{2}$

(5) $\alpha^3 + \beta^3 = (\alpha + \beta)(\alpha^2 + \alpha\beta + \beta^2) = \frac{3}{2} \times (\frac{13}{4} + \frac{1}{2}) = \frac{45}{8}$

答案: (1) -3; (2) 2; (3) $\frac{13}{4}$; (4) $\frac{\sqrt{17}}{2}$; (5) $\frac{45}{8}$ 。

例 3. 已知 x_1, x_2 是关于 x 的方程 $x^2 + px - p^2 = 0$ 的两个实数根且 $x_1 x_2 - x_1 - x_2 = 0$ 。

(1) 求证: 方程总有两个实数根;

(2) 求 p 的值。

解析: (1) 要说明方程总有两个实数根, 即说明 $\Delta \geq 0$ 即可;

(2) 根据根与系数的关系有 $x_1 + x_2 = -p$, $x_1 x_2 = -p^2$ 。

答案: (1) $\because \Delta = p^2 - (-4p^2) = 5p^2$

而 $\Delta = 5p^2 \geq 0$,

\therefore 方程总有两个实数根

(2) 由 $x_1 + x_2 = -p$, $x_1 x_2 = -p^2$,

且 $x_1 x_2 - x_1 - x_2 = 0$,

$$\therefore -p = -p^2$$

解得 $p = 0$ 或 $p = 1$

例 4. 已知关于 x 的二次方程 $x^2 - 2(a-2)x + a^2 - 5 = 0$ 有实数根, 且两根之积等于两根之和的 2 倍, 求 a 的值。

解析: 用韦达定理时要注意根是否存在, 即 $\Delta \geq 0$ 。

答案: 由题意得 $a^2 - 5 = 4(a-2)$, 解得 $a = 1$ 或 $a = 3$

$$\text{又 } \Delta = 4(a-2)^2 - 4(a^2 - 5) \geq 0, \text{ 解得 } a \leq \frac{9}{4}$$

所以 $a = 3$ 舍去, 即 $a = 1$ 。

例 5. 关于 x 的一元二次方程 $x^2 - 3x + k + 1 = 0$ 的两根的平方和小于 5, 求 k 的取值范围。

解析: 运用韦达定理构造平方和, 同时一定要注意两根的存在条件, 即 $\Delta \geq 0$

答案: 设方程的两个根分别为 x_1, x_2

$$\text{由韦达定理得, } x_1 + x_2 = 3, \quad x_1 \cdot x_2 = k + 1$$

$$\text{因为 } x_1^2 + x_2^2 = (x_1 + x_2)^2 - 2x_1x_2 = 3^2 - 2(k+1) < 5$$

$$\text{所以 } k > 1 \quad (1)$$

$$\text{又因为 } \Delta = 3^2 - 4(k+1) \geq 0$$

$$\text{所以 } k \leq \frac{5}{4} \quad (2)$$

$$\text{综上 (1) (2) 得, } 1 < k \leq \frac{5}{4}$$

例 6. 已知关于 x 的一元二次方程 $x^2 + (m-2)x + \frac{1}{2}m - 3 = 0$

(1) 求证: 无论 m 取什么实数值, 这个方程总是有两个不相等的实数根。

(2) 若这个方程的两个实数根 x_1, x_2 满足 $2x_1 + x_2 = m + 1$, 求 m 的值。

解析: 方程根的情况可以用判别式 Δ 进行判定, 求 m 的值可以根据韦达定理。

答案: (1) 方程有两个不相等的实数根, 则判别式 $\Delta > 0$, 即

$$\Delta = b^2 - 4ac = (m-2)^2 - 4\left(\frac{1}{2}m - 3\right)$$

$$= m^2 - 6m + 16 = (m-3)^2 + 7 > 0 \quad \text{恒成立}$$

所以无论 m 取何值 Δ 大于零恒成立, 方程恒有两个不相等的实数根。

$$(2) \text{ 根据韦达定理得到: } \begin{cases} x_1 + x_2 = -(m-2) \\ 2x_1 + x_2 = m+1 \end{cases}$$

$$\text{解方程组, } \begin{cases} x_1 = 2m-1 \\ x_2 = 3-3m \end{cases}$$

$$\text{又因为 } x_1x_2 = \frac{1}{2}m - 3, \text{ 所以有 } \frac{1}{2}m - 3 = (2m-1)(3-3m),$$

$$\text{解这个方程得 } m = 1 \text{ 或 } \frac{1}{2}$$

三、基础训练

1.

答案: (1) 是 (2) 是 (3) 不是

2. 答案: $-\frac{3\sqrt{2} + \sqrt{10}}{4}$

3. 答案: $p = -1, q = -3$

4. 答案: $\frac{8\sqrt{3}}{3}$

5. 答案: $m = -3$

6. 答案: $m = -4, n = -29$

第2讲 集合及其表示方法

二、例题分析

例1. 下列对象的全体, 哪些可构成集合

- 1) 上海中学年纪较大的老师 否
- 2) 很接近0的数字 否
- 3) 著名的足球运动员 否
- 4) 绝对值最小的实数 是 {0}

例3. D 试一试: C

例4. A 试一试: 答案: $S = \{2, 3, 4, 7\}$

例5. (1) $\{0, 2, 4, 6, 8\}$ (2) $\{2, 3, 5, 7\}$ (3) $\{-3, 5\}$

例6. (1) $\{x | x = 2k, k \in Z\}$; (2) $\{(x, y) | x = 0, y \in R\}$ 两个都是无限集

例7. 解: 1) 当 $k = -1$ 时, $x = -1$ 符合题意

2) 当 $k \neq -1$ 时 $(k+1)x^2 + x - k = 0$ 有唯一解

$$\therefore \Delta = 1 + 4k(k+1) = 0$$

$$k = -\frac{1}{2}$$

综上 $k = -1$ 或 $k = -\frac{1}{2}$

例8. 解: $\because 5 \in A$
 $\therefore 1) 2a+1=5 \therefore a=2$ 此时 $A = \{3, 5, 12\}$ 符合题意

2) $a^2+4a=5 (a-1)(a+5)=0 \therefore a=1$ 或 -5

当 $a=1$ 时 $A = \{3, 3, 5\}$ 不符, 舍

当 $a=-5$ 时, $A = \{3, -9, 5\}$

综上 $a=2$ 或 $a=-5$

五、回家作业

1. 答案: $\in \notin \notin \in \in \notin$

2. (1) 答案: $\{2\}$ (2) 答案: $\{12, 14, 15, 16, 18\}$

3. 用描述法表示下列集合:

(1) 答案: $\{x \mid x = 5k + 1, k \in \mathbf{N}\}$

(2) 答案: $\{(x, y) \mid xy > 0, x \in \mathbf{R}, y \in \mathbf{R}\}$

(3) 答案: $\{(x, y) \mid y = 2x^2 - x + 1, x \in \mathbf{R}, y \in \mathbf{R}\}$

(4) 答案: $\left\{x \mid x = \frac{n}{n+2}, n \in \mathbf{N}^*, n \leq 5\right\}$

4. 用列举法表示下列集合:

(1) 答案: $\{(0, 5), (1, 4), (2, 3), (3, 2), (4, 1), (5, 0)\}$

(2) 答案: $\{3, -1\}$

(3) 答案: \emptyset

(3) 答案: $\{-7, -1, 1, 3, 4\}$

5. 答案: 由已知得: $B = \{1, -2\}$ $\because A \subseteq B, \therefore A = \emptyset$ 或 $A = \{1\}$ 或 $A = \{-2\}$, 由 $A = \emptyset$ 得 $a = 0$; 由 $A = \{1\}$ 得 $a = -1$; 由 $A = \{-2\}$ 得 $a = 1/2$. $\therefore a$ 的值为 0 或 -1 或 $1/2$.

第 3 讲 集合之间的包含关系

二、例题分析

例 1. 略

例 2. (1) $A=B$ (2) A 包含 B

(1) $A = \{n \mid n \text{ 为 } 12 \text{ 的正约数}\}$ 与 $B = \{1, 2, 3, 4, 6, 12\}$

(2) $C = \{m \mid m = 2k, k \in \mathbf{N}^+\}$ 与 $D = \{m \mid m \text{ 为 } 4 \text{ 的正整数倍数}\}$.

例 3. $m=0$ 或 $1/3$ 或 $-1/2$

例 4. $a = -1$ 或 2

例 5. (1) m 大于等于 3 (2) $\frac{1}{2} \leq a \leq 1$

例 6. $x=2, y=3$

第 4 讲 集合的运算

二、例题分析

题型 1: 交集与并集的运算

例 1: 解: $A \cap B = \{x \mid -1 < x < 0\}$

例 2: 答案: $\left\{(1, 0), \left(-\frac{2}{3}, \frac{5}{9}\right)\right\}$

(2) 解: $M = \{y \mid y = x^2 + 1, x \in \mathbf{R}\} = \{y \mid y \geq 1\}$. $N = \{y \mid y = x + 1, x \in \mathbf{R}\} = \{y \mid y \in \mathbf{R}\}$.
 $\therefore M \cap N = \{y \mid y \geq 1\} \cap \{y \mid y \in \mathbf{R}\} = \{y \mid y \geq 1\}$. \therefore 应选 D.

例 3: 解: $\because A \cap B = \{9\}$, $A = \{-4, 2m-1, m^2\}$, $B = \{9, m-5, 1-m\}$, $\therefore 2m-1=9$ 或 $m^2=9$, 解得 $m=5$ 或 $m=3$ 或 $m=-3$.

若 $m=5$, 则 $A = \{-4, 9, 25\}$, $B = \{9, 0, -4\}$ 与 $A \cap B = \{9\}$ 矛盾;

若 $m=3$, 则 B 中元素 $m-5=1-m=-2$, 与 B 中元素互异矛盾;

若 $m=-3$, 则 $A = \{-4, -7, 9\}$, $B = \{9, -8, 4\}$ 满足 $A \cap B = \{9\}$. $\therefore m = -3$.

例 4: 解: $\because A \cap B = \{1\} \quad \therefore 1 \in B \quad \therefore 1^2 - 4 \times 1 + r = 0, r = 3.$
 $\therefore B = \{x | x^2 - 4x + r = 0\} = \{1, 3\}, \quad \because A \cup B = \{-2, 1, 3\}, -2 \notin B, \therefore -2 \in A$
 $\therefore A \cap B = \{1\} \quad \therefore 1 \in A \quad \therefore \text{方程 } x^2 + px + q = 0 \text{ 的两根为 } -2 \text{ 和 } 1,$
 $\therefore p = -(-2 + 1) = 1, q = (-2) \cdot 1 = -2. \quad \therefore p = 1, q = -2, r = 3$

例 5: 解: (1) 当 $P = \emptyset$ 时, 有 $\Delta = (m+2)^2 - 4 < 0$, 解得 $-4 < m < 0$.

$$(2) \text{ 当 } P \neq \emptyset \text{ 时, 有 } \begin{cases} x_1 + x_2 = -(m+2) \leq 0 \\ x_1 \cdot x_2 = 1 > 0 \\ \Delta = (m+2)^2 - 4 \geq 0 \end{cases}, \text{ 解得 } \begin{cases} m \geq -2 \\ m \geq 0 \text{ 或 } m \leq -4 \end{cases}, \text{ 得 } m \geq 0$$

综上(1)(2)可知 $m > -4$.

题型 2: 全集与补集的计算

例 1: 解: $\because U = \{a, b, c, d, e, f\}, A = \{a, e, f\}, B = \{a, b, c, e\}$

$$\therefore A \cup B = \{a, b, c, e, f\}, A \cap B = \{a, e\}$$

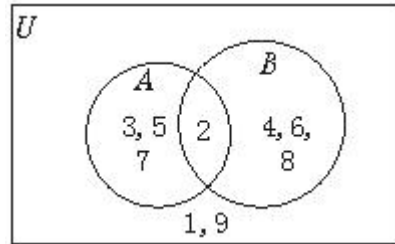
$$C_U A = \{b, c, d\}, C_U B = \{d, f\};$$

$$\therefore (C_U A) \cup (C_U B) = \{b, c, d, f\}, C_U (A \cap B) = \{b, c, d, f\};$$

例 2: 答案: (1) $\{x | x \leq 2\}$; (2) $\{x | 0 \leq x \leq 2\}$; (3) $\{2\}$

例 3: 答案: $a = -1$

例 4: 解: 由图可得 $A = \{2, 3, 5, 7\}, B = \{2, 4, 6, 8\}$.



例 5:

$$\because 1 \leq a_1 < a_2 < a_3 < a_4, \therefore a_1^2 < a_2^2 < a_3^2 < a_4^2,$$

$$\therefore A \cap B = \{a_1, a_4\}, \therefore \text{只可能有 } a_1 = a_1^2 \Rightarrow a_1 = 1,$$

$$\text{而 } a_1 + a_4 = 10, \therefore a_4 = 9, \therefore a_4^2 \neq a_4,$$

$$(1) \text{ 若 } a_2^2 = a_4, \text{ 则 } a_2 = 3, \therefore A \cup B = \{1, 3, a_3, 9, a_3^2, 81\},$$

$$\therefore a_3 + a_3^2 + 94 = 124 \Rightarrow a_3 = 5;$$

$$(2) \text{ 若 } a_3^2 = a_4, \text{ 则 } a_3 = 3, \text{ 同样可得 } a_2 = 5 > a_3, \text{ 与条件矛盾, 不合;}$$

综上, $A = \{1, 3, 5, 9\}, B = \{1, 9, 25, 81\}$.

三、基础训练

1. A
2. C
3. A
4. 答案: $\{(3, -1)\}$
5. 答案: $\{1, 2, 6\}, \{1, 2, 3, 5, 6, 7, 8\}$
6. 答案: $q = -\frac{1}{2}$
7. 答案: 26
8. 解: 因为 $(C_U A) \cap (C_U B) = \{1, 9\}$, 所以 $A \cup B = \{2, 3, 4, 5, 6, 7, 8\}$

因为 $A \cap B = \{2\}$, $(C_U A) \cap B = \{4, 6, 8\}$,

所以 $B = \{2, 4, 6, 8\}$, $A = \{2, 3, 5, 7\}$

9. 解: (1) $A \cup B = \{x | 1 \leq x < 10\}$
 $(C_R A) \cap B = \{x | x < 1 \text{ 或 } x \geq 7\} \cap \{x | 2 < x < 10\}$
 $= \{x | 7 \leq x < 10\}$
 (2) 当 $a > 1$ 时满足 $A \cap C \neq \emptyset$

四、拓展提高

1. 答案: (1) $a \geq 3$; (2) $a < 3$
2. 答案: $1 \leq a \leq 5$
3. 答案: $-3 \leq a \leq -2$
4. 答案: $a=0, b=4$

五、回家作业

1~12: DBBAA DCDCA DC

13. 20 14. $a \leq -2$ 15. 1, 1; 16. $p > -4$

17. 解: $\because A \cap B = \{-2\}$, $\therefore -2 \in A$, 又 $\because a^2 + 1 > 0$, $\therefore a^2 - 3 = -2$, 解得 $a = \pm 1$

(1) 当 $a = 1$ 时, $A = \{-1, 2, -2\}$, $B = \{-2, 0, 2\}$

则 $A \cap B = \{-2, 2\}$ 与 $A \cap B = \{-2\}$ 矛盾, $\therefore a \neq 1$.

(2) 当 $a = -1$ 时, $A = \{-1, 2, -2\}$, $B = \{-4, -2, 0\}$, $A \cap B = \{-2\}$ 符合题意
 此时 $A \cup B = \{-4, -2, -1, 0, 2\}$, 又 $\because U = \{-4, -3, -2, -1, 0, 1, 2, 3, 4\}$

$\therefore \complement_U (A \cup B) = \{-3, 1, 3, 4\}$.

第 5 讲 命题的形式和等价关系

二、例题分析

题型 1: 命题的判定、推出符号的运用

例 1. 答案: (1)

例 2. 答案: (1) \Rightarrow ; (2) \Leftarrow ; (3) \Leftrightarrow ; (4) \Leftrightarrow

题型 2: 命题的四种形式及相互关系

例 3. 解: 逆命题: 若 $a \leq 0$ 或 $b \leq 0$, 则 $ab \leq 0$. 逆命题是假

否命题：若 $ab > 0$ 则 $a > 0$ 且 $b > 0$ ，否命题是假

逆否命题：若 $a > 0, b > 0$ ，则 $ab > 0$ ，逆否命题是真。

例 4. 解：由命题 p 可以得到：
$$\begin{cases} \Delta = m^2 - 4 > 0 \\ m > 0 \end{cases} \quad \therefore m > 2$$

由命题 q 可以得到： $\Delta = [4(m-2)]^2 - 16 < 0 \quad \therefore -2 < m < 6$

$\therefore p$ 或 q 为真， p 且 q 为假 p, q 有且仅有一个为真

当 p 为真， q 为假时，
$$\begin{cases} m > 2 \\ m \leq -2, \text{ or } m \geq 6 \end{cases} \Rightarrow m \geq 6$$

当 p 为假， q 为真时，
$$\begin{cases} m \leq 2 \\ -2 < m < 6 \end{cases} \Rightarrow -2 < m \leq 2$$

所以， m 的取值范围为 $\{m \mid m \geq 6 \text{ 或 } -2 < m \leq 2\}$ 。

题型 3：充分条件与必要条件

例 5. 答案：(1) 必要非充分；(2) 充分非必要；(3) 既非充分又非必要；(4) 充要；(5) 必要非充分；(6) 充分非必要

例 6. 解：选 A 点评：推出关系满足传递性：“若 $\alpha \Rightarrow \beta$ ， $\beta \Rightarrow \gamma$ ，则 $\alpha \Rightarrow \gamma$ ”

例 7. 答案：(1) 既不充分也不必要条件（用逆否命题帮助判断）

(2) $m = 0$ （所填范围只要在 $m \leq \frac{1}{4}$ 的范围之类即可）

题型 4、子集与推出关系

例 8. 答案：(1) α 是 β 的充分非必要条件；(2) α 是 β 必要非充分条件；

例 9. 答案：(1) $-\frac{1}{2} \leq m \leq 0$ ；(2) $m \leq -3$ ；

例 10. 答案： $-3 \leq m \leq -\frac{1}{2}$ ；

例 11. 答案： α 是 β 的充分非必要条件；

三、基础训练

四、拓展提高

1. 已知 $a, b, c \in R$ ，“ $b^2 - 4ac < 0$ ”是“函数 $f(x) = ax^2 + bx + c$ 的图像恒在 x 轴上方”的（ ）

A. 充分非必要条件

B. 必要非充分条件

C. 充要条件

D. 既非充分又非必要条件

答案：D

2. 钱大姐常说“便宜没好货”，她这句话的意思是：“不便宜”是“好货”的（ ）

A. 充分条件

B. 必要条件

C. 充分必要条件

D. 既非充分也非必要条件

答案：B

3. 求证：二次方程 $ax^2 + bx + c = 0$ 有一根为 1 的充要条件是 $a + b + c = 0$

证明：

(1) 充分性 若 $a + b + c = 0$ 将 $x = 1$ 代入方程得 $a \cdot 1^2 + b \cdot 1 + c = a + b + c = 0$

所以 $x = 1$ 是二次方程 $ax^2 + bx + c = 0$ 的一个根。

(2) 必要性 已知 $a + b + c = 0$ ，则 $a \cdot 1^2 + b \cdot 1 + c = a + b + c = 0$ ，显然 1 是方程 $ax^2 + bx + c = 0$ 的一个根。

4. 已知命题 p ：方程 $a^2x^2 + ax - 2 = 0$ 在 $[-1, 1]$ 上有解；命题 q ：只有一个实数满足不等式 $x^2 + 2ax + 2a \leq 0$ 。若 p, q 都是假命题，求 a 的取值范围。

解：由 $a^2x^2 + ax - 2 = 0$ 知 $a \neq 0$ ，解此方程得 $x_1 = \frac{1}{a}, x_2 = -\frac{2}{a}$ 。

\because 方程 $a^2x^2 + ax - 2 = 0$ 在 $[-1, 1]$ 上有解， $\therefore |\frac{1}{a}| \leq 1$ 或 $|\frac{2}{a}| \leq 1$ ， $\therefore |a| \geq 1$ 。

只有一个实数满足不等式 $x^2 + 2ax + 2a \leq 0$ ，表明抛物线 $y = x^2 + 2ax + 2a$ 与 x 轴只有一个

公共点， $\therefore \Delta = 4a^2 - 8a = 0$ ， $\therefore a = 0$ 或 $a = 2$ 。

∴命题 p 为假, 则 $-1 < a < 1$; 命题 q 为假, 则 $a \neq 0$ 且 $a \neq 2$.

∴若 p, q 都是假命题, 则 a 的取值范围是 $(-1, 0) \cup (0, 1)$.

五、回家作业

1. ②; 2. 若 a, b 都不为零, 则 $ab \neq 0$. 3. 当 $c > 0$ 时, 若 $a \leq b$, 则 $ac \leq bc$;

4. A 5. A 6. 充分非必要条件; 7. 充分非必要 8. $m = 0$ 9. A

10、假设 $a, b \in Q$, 可设 $a = \frac{m}{n}, b = \frac{t}{s} (m, n, s, t \in Z, m \neq 0, s \neq 0)$, 则 $ab = \frac{nt}{ms} \in Q$, 与

条

件矛盾, 所以 a, b 至少有一个不是有理数 “至少有一个不是” 的否定是 “都是”, 本题不用直接证明而是证明逆否命题, 其原因是: “不是有理数” 不如 “是有理数” 容易用数学语言表达, “是有理数” 即 “可写成分数形式”

11、解: 充分性: 若 $ac < 0$, 则方程的 $\Delta > 0$, 方程有两个不同的实数根。

非必要性: 当方程有两个不同的实数根, 则 $\Delta > 0$, 而不仅仅是 $ac < 0$ 。

1、(2) (3) 对; (1) (4) 错; 2、A; 3、C; 4、A; 5、C; 6、B; 7、C;

8、略;

9、(1) 必要非充分; (2) 非充分非必要; (3) 充分非必要; (4) 充要条件; (5) 充分非必要; (6) 必要非充分;

10、必要非充分;

11、答案: $xy > 1$; 12、A; 13、(1) 充分非必要; (2) 充分非必要; (3) r 和 s 互为充要条件;

$$14、(1) \begin{cases} b^2 - 4ac > 0 \\ \frac{c}{a} < 0 \end{cases}; (2) \begin{cases} b^2 - 4ac > 0 \\ \frac{c}{a} > 0 \\ -\frac{b}{a} > 0 \end{cases}; (3) \begin{cases} b^2 - 4ac > 0 \\ \frac{c}{a} > 0 \\ -\frac{b}{a} < 0 \end{cases};$$

$$(4) \begin{cases} b^2 - 4ac > 0 \\ c = 0 \\ -\frac{b}{a} > 0 \end{cases}; (5) \begin{cases} b^2 - 4ac > 0 \\ -\frac{b}{2a} < 2 \\ f(2) > 0 \end{cases};$$

15、略;

第6讲 充分和必要条件、子集和推出的关系

一、知识梳理

(一) 充分和必要条件

1、充分条件、必要条件：

一般的，如果命题 α 成立，可以推出命题 β 也成立，即 $\alpha \Rightarrow \beta$ ，那么 α 叫做 β 的充分条件，同时 β 叫做 α 的必要条件（也就是说，为了使 β 成立，具备条件 α 就足够了）。

2、充分不必要条件、必要不充分条件：

一般的，如果命题 α 成立，可以推出命题 β 也成立，且命题 β 成立，推不出命题 α 成立，那么 α 叫做 β 的充分不必要条件，同时 β 叫做 α 的必要不充分条件。

3、充要条件：

如果既有 $\alpha \Rightarrow \beta$ ，又有 $\beta \Rightarrow \alpha$ ，即有 $\alpha \Leftrightarrow \beta$ ，那么 α 既是 β 的充分条件，又是 β 的必要条件，则称 α 是 β 的充分且必要条件，简称充要条件。

(二)、子集与推出关系：

1、设 $A = \{a | a \text{具有性质}\alpha\}$ ， $B = \{b | b \text{具有性质}\beta\}$ ，则 $A \subseteq B \Leftrightarrow \alpha \Rightarrow \beta$ 。

2、子集与推出关系的各种表述形式：

已知集合 $A = \{a | a \text{具有性质}\alpha\}$ ， $B = \{b | b \text{具有性质}\beta\}$

①若 $A \subseteq B$ ，则 α 是 β 的充分条件； ②若 $A \overset{\circ}{\subseteq} B$ ，则 α 是 β 的充分不必要条件；

③若 $A \supseteq B$ ，则 α 是 β 的必要条件； ④若 $A \overset{\circ}{\supseteq} B$ ，则 α 是 β 的必要不充分条件；

⑤若 $A = B$ ，则 α 是 β 的充要条件； ⑥若 $A \not\subseteq B, B \not\subseteq A$ 则 α 是 β 的既不充分也不必要条件；

3、推出关系具有传递性：若 $\alpha \Rightarrow \beta$ ， $\beta \Rightarrow \gamma$ ，则 $\alpha \Rightarrow \gamma$ ，若 $\alpha \Rightarrow \beta$ ， $\beta \Rightarrow \alpha$ ，则 $\alpha \Leftrightarrow \beta$ ，称 α 与 β 等价。

二、例题解析

题型 1. 判断充分、必要条件

**例 1: (1) 设全集为 U , 则 “ $A \cap B = \phi$ ” 的充要条件是 “ $A \cap C_U B =$ _____”.

(2) “ $|x+y| = |x| + |y|$ ” 是 “ $xy > 0$ ” 的 ()

- (A) 充要条件 (B) 充分非必要条件
(C) 必要非充分条件 (D) 既非充分又非必要条件

解: (1) ~~A~~ (2) C

**例 2. (1) 条件 “ $x \neq 3$ 或 $y \neq 5$ ” 是条件 “ $x+y \neq 8$ ” 的什么条件?

(2) 设 $a_1, b_1, c_1, a_2, b_2, c_2$ 均为非零实数. 不等式 $a_1x^2 + b_1x + c_1 > 0$ 和

$a_2x^2 + b_2x + c_2 > 0$ 的解集分别为 M 和 N , 那么 “ $\frac{a_1}{a_2} = \frac{b_1}{b_2} = \frac{c_1}{c_2}$ ” 是 “ $M = N$ ” 的 ()

- (A) 充分非必要条件 (B) 必要非充分条件
(C) 充要条件 (D) 既非充分又非必要条件

解: (1) 必要非充分条件 (2) D

题型 2. 写出符合要求的条件

*例 3. (1) 写出 $x > 0$ 的一个必要非充分条件;

(2) 写出 $x > 0$ 的一个充分非必要条件。

解: (1) $x > -1$; (2) $x > 1$ 。

小结: 把充要条件中的条件范围缩小得到的条件是充分不必要条件; 把充要条件中的条件范围扩大得到的条件是必要不充分条件。

**例 4. 设 $A = \{y | y = x^2 - 4x + 6\}$, $B = \{x | x > a\}$, 若 $B \subset A$;

(1) 求 a 的取值范围; (2) 写出它的一个充分非必要条件。

解：(1) 由 $A = \{y | y = x^2 - 4x + 6\} = \{y | y \geq 2\}$ ，且 $B \subset A \Rightarrow a < 2$ ；

(2) $a < 1$ 。

题型 3、求充要条件

***例 5. 已知实系数一元二次方程 $ax^2 + bx + c = 0 (a \neq 0)$ ，“ $b^2 - 4ac = 0$ ”是“方程

$ax^2 + bx + c = 0$ 有两个相等的实数根”的什么条件？为什么？

解：方程 $ax^2 + bx + c = 0$ 变形为 $\left(x + \frac{b}{2a}\right)^2 = \frac{b^2 - 4ac}{4a}$ ； $\because b^2 - 4ac = 0$ ， \therefore

$$x_1 = x_2 = -\frac{b}{2a},$$

\therefore “ $b^2 - 4ac = 0$ ”是“方程 $ax^2 + bx + c = 0$ 有两个相等的实数根”的充分条件；

反过来，方程 $ax^2 + bx + c = 0$ 有两个相等的实数根 $x_1 = x_2$ ，那么根据方程根与系数关

系得
$$\begin{cases} x_1 + x_2 = 2x_1 = -\frac{b}{2a} \\ x_1 x_2 = x_1^2 = \frac{c}{a} \end{cases}, \therefore b^2 - 4ac = 0; \therefore \text{“} b^2 - 4ac = 0 \text{” 是 “方程}$$

$ax^2 + bx + c = 0$ 有两个相等的实数根”的必要条件；

综上所述“ $b^2 - 4ac = 0$ ”是“方程 $ax^2 + bx + c = 0$ 有两个相等的实数根”的充要条件。

**例 6. 已知实系数一元二次方程 $ax^2 + bx + c = 0 (a \neq 0)$ ，

试写出下列各条件的一个充要条件：

- (1) 方程有一个正根、一个负根；
- (2) 方程有两个正根；
- (3) 方程有两个不同负根；
- (4) 方程有一个正根、一个根为 0；
- (5) 方程有一个根大于 1、一个根小于 1。

解：(1) $ac < 0$ ；(2) $b^2 - 4ac \geq 0, ab < 0, ac > 0$ ；(3) $b^2 - 4ac > 0, ab > 0, ac > 0$ ；

(4) $c = 0, ab < 0$ ；(5) $(a + b + c)(a - b + c) > 0$ 。

题型 4、证明充要条件

****例 7.** 求证：二次方程 $ax^2 + bx + c = 0$ 有实根 $x = 1$ 的充要条件是 $a + b + c = 0$ 。

证：(1) 充分性：若 $a + b + c = 0 \Rightarrow b = -(a + c)$ ，代入 $ax^2 + bx + c = 0$ 得：

$$ax^2 - (a + c)x + c = 0 \Rightarrow (x - 1)(ax - c) = 0 \Rightarrow x = 1 \text{ 是方程的根；}$$

(2) 必要性：若 $x = 1$ 是方程的根，用 $x = 1$ 代入应满足方程，得 $a + b + c = 0$ 。

\therefore 二次方程 $ax^2 + bx + c = 0$ 有实根 $x = 1$ 的充要条件是 $a + b + c = 0$ 。

******例 8.** 已知关于 x 的实系数二次方程 $x^2 + ax + b = 0$ 有两个实数根 α, β ，证明：

“ $|\alpha| < 2$ 且 $|\beta| < 2$ ” 是 “ $2|a| < 4 + b$ 且 $|b| < 4$ ” 的充要条件。

证明：论证充分性和必要性

题型 5、子集与推出关系

*****例 9.** 设 $\alpha: -1 < x < 2$ ； $\beta: x^2 - x - 2a^2 = 0$ ，若 α 是 β 的必要条件，求实数 a 的取值范围。

解：由 $x^2 - x - 2a^2 = 0 \Rightarrow x_1 = -a, x_2 = 2a$ ；

(1) 若 $a > 0 \Rightarrow -1 < -a < 2a < 2 \Rightarrow 0 < a < 1$ ；

(2) 若 $a < 0 \Rightarrow -1 < 2a < -a < 2 \Rightarrow -\frac{1}{2} < a < 0$ ；

(3) 若 $a = 0 \Rightarrow x_1 = 0, x_2 = 1 \Rightarrow -1 < x_1 < x_2 < 2$ ；

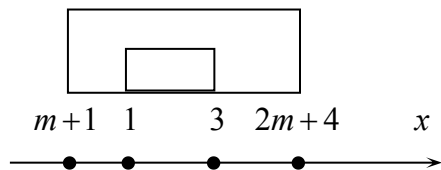
故：当 $-\frac{1}{2} < a < 1$ 时， α 是 β 的必要条件。

****例 10.** 设 $\alpha: 1 \leq x \leq 3, \beta: m + 1 \leq x \leq 2m + 4, m \in R$ ， α 是 β 的充分条件，求 m 的范围。

解：设 $A = \{x | 1 \leq x \leq 3\}$ ， $B = \{x | m + 1 \leq x \leq 2m + 4\}$ 因为 α 是 β 的充分条件，即

$\alpha \Rightarrow \beta$ ，所以 $A \subseteq B$

由右图可得 $\begin{cases} m + 1 \leq 1 \\ 3 \leq 2m + 4 \end{cases}$ ，解得 $-\frac{1}{2} \leq m \leq 0$



所以 m 的取值范围是 $-\frac{1}{2} \leq m \leq 0$ 。

***例 11. 设 $\alpha: 2 \leq x < 3$, $\beta: x \leq m-1$ 或 $x > m+1$, $m \in R$, α 是 β 的充分条件, 求 m 的范围。

解: 设 $A = \{x | 2 \leq x < 3\}$, $B = \{x | x \leq m-1 \text{ 或 } x > m+1, m \in R\}$

α 是 β 的充分条件, 即 $\alpha \Rightarrow \beta$, $\therefore A \subseteq B$

画数轴分析可得 $m-1 \geq 3$ 或 $m+1 < 2$, 解得 $m \geq 4$ 或 $m < 1$

所以 m 的取值范围是 $m \geq 4$ 或 $m < 1$ 。

三、基础训练

*1. $x > 0$, 且 $y > 0$ 的一个必要非充分条件是
(B)

A) $xy = 0$

B) $x + y > 0$

C) $x = 1, y = 1$

D) $x - y > 0$

*2. 试用子集与推出的关系来说明 α 是 β 的什么条件。

(1) $\alpha: x = 1$ 且 $y = 2$; $\beta: x + y = 3$

(2) $\alpha: a + b > 0$; $\beta: a > 0, b > 0$

(3) $\alpha: xy > 0$; $\beta: |x + y| = |x| + |y|$

解: (1) 充分非必要条件; (2) 必要非充分条件; (3) 充分非必要条件

**3. 从“充分而不必要条件”, “必要而不充分条件”或“充要条件”中选出适当的一种填空:

(1) $x \in A \cap B$ 是 $x \in A$ 的_____;

(2) $x \in A \cup B$ 是 $x \in B$ 的_____;

(3) $x \in (\complement_U A)$ 是 $x \in U$ 的_____;

(4) $x \in (\delta_U A) \cup A$ 是 $x \in A$ 的_____;

(5) “ $A = \emptyset$ ”是“ $A \cup B = B$ ”的_____;

(6) “ $A \dot{\cup} B$ ”是“ $A \cap B = A$ ”的_____;

(7) “ $x \in A$ ”是“ $x \in A \cap B$ ”的_____;

(8) “四边形的对角线互相垂直平分”是“四边形为矩形”的_____;

(9) “四边形内接于圆”是“四边形对角互补”的_____;

(10) 设 $\odot O_1$, $\odot O_2$ 的半径为 r_1 , r_2 , 则“ $O_1 O_2 = r_1 + r_2$ ”是“两圆外切”的_____

_____.

- 答案：(1) 充分不必要条件 (2) 必要不充分条件 (3) 充分不必要条件
(4) 必要不充分条件 (5) 充分不必要条件 (6) 充分不必要条件
(7) 必要而不充分条件 (8) 既不充分也不必要条件 (9) 充要条件
(10) 充要条件.

*4. 写出命题 $p: (x-1)(x+2) < 0$ 的一个必要不充分条件_____。 答案: $x \leq -2$ (答案不唯一)

**5. 命题 $A: |x-1| < 3$, 命题 $B: (x+2)(x+a) < 0$; 若 A 是 B 的充分而不必要条件, 则实数 a 的取值范围是_____ 答案: $a < -4$

**6. 集合 $A = \{x | -2 < x < 5\}$, 集合 $B = \{x | m+1 \leq x \leq 2m-1\}$, 若 $B \subseteq A$, 且 B 为非空集合, 则 m 的取值范围为 _____。 答案: $[2, 3)$

***7. 求方程 $ax^2 + 2x + 1 = 0$ 至少有一个负根的充要条件.

答案: $0 < a \leq 1$.

***8. 已知 $a, b \in R$, 求证: “关于 x 的不等式 $ax + b > 0$ 对一切实数 x 都成立” 的充要条件是: $a = 0, b > 0$ 。

证明: 证明充分性和必要性

四、拓展提高

*1. “ $x_1 > 3$ 且 $x_2 > 3$ ” 是 “ $x_1 + x_2 > 6$ 且 $x_1 x_2 > 9$ ” 的充要条件吗? 若是, 请说明理由;

若不是, 请给出 “ $x_1 > 3$ 且 $x_2 > 3$ ” 的充要条件.

答案: 不是充要条件; $\begin{cases} (x_1 - 3)(x_2 - 3) > 0 \\ x_1 + x_2 > 6 \end{cases}$.

***2. 已知关于 x 的一元二次方程: (1) $mx^2 - 4x + 4 = 0$, (2) $x^2 - 4mx + 4m^2 - 4m - 5 = 0$

求方程 (1) 和 (2) 都有整数解的充要条件. ($m \in Z$)

解: (1) 有解, 则 $m \leq 1$, (2) 有解, 则 $m \geq -\frac{5}{4}$, 又 $m \in Z$, $m = -1, 0, 1$

检验后: $m = 1$

***3. 已知 $p: \left\{ x \mid \begin{cases} x+2 \geq 0 \\ x-10 \leq 0 \end{cases} \right\}$, $q: \{x \mid 1-m \leq x \leq 1+m, m > 0\}$, 若 $\neg p$ 是 $\neg q$ 的必要不充分

条件, 求实数 m 的取值范围.

解: 由题知: $p: P = \{x \mid -2 \leq x \leq 10\}$, $q: Q = \{x \mid 1-m \leq x \leq 1+m, m > 0\}$

$\because \neg p$ 是 $\neg q$ 的必要不充分条件, $\therefore q$ 是 p 的必要不充分条件. $\therefore P \cap Q \neq \emptyset$, 即 $\begin{cases} 1-m \leq -2, \\ 1+m \geq 10, \\ m > 0. \end{cases}$ 得

$m \geq 9$.

故 m 的取值范围为 $m \geq 9$.

**4. 已知关于 x 的方程 $(1-a)x^2 + (a+2)x - 4 = 0$, $a \in R$. 求:

(1) 方程有两个正根的充要条件;

(2) 方程至少有一个正根的充要条件.

解: (1) 方程 $(1-a)x^2 + (a+2)x - 4 = 0$ 有两个正根的充要条件

$$\begin{cases} 1-a \neq 0, \\ \Delta \geq 0. \end{cases} \Leftrightarrow \begin{cases} a \neq 1, \\ a \leq 2 \text{ 或 } \geq 10. \end{cases}$$

设此时方程的两实根为 x_1, x_2 , 则 x_1, x_2 的正数的充要条件是

$$\begin{cases} x_1 + x_2 > 0, \\ x_1 x_2 > 0. \end{cases} \Leftrightarrow a > 1.$$

综上, 方程有两个正根的充要条件为 $1 < a \leq 2$ 或 $a \geq 10$.

(2) ① 方程有两个正根, 由 (1) 知 $1 < a \leq 2$ 或 $a \geq 10$.

② 当 $a = 1$ 时, 方程化为 $3x - 4 = 0$, 有一个正根 $x = \frac{4}{3}$.

③ \because 方程无零根, 故方程有一正根, 一负根的充要条件是 $\begin{cases} 1-a \neq 0, \\ \Delta \geq 0, \\ x_1 x_2 < 0. \end{cases}$ 即 $a < 1$.

综上, 方程至少有一正根的充要条件是 $a \leq 2$ 或 $a \geq 10$.

五、回家作业

1. 设集合 $M = \{x \mid 0 < x \leq 3\}$, $N = \{x \mid 0 < x \leq 2\}$, 则 “ $a \in M$ ” 是 “ $a \in N$ ” 的 必要不充分 条件.

2. 已知 p 是 r 的充分不必要条件, s 是 r 的必要条件, q 是 s 的必要条件. 那么 p 是 q 的:

(A)

(A) 充分不必要条件 (B) 必要不充分条件 (C) 充要条件 (D) 既不充分也不必要条件

3. 函数 $y = ax^2 + bx + c$ ($a \neq 0$) 过原点的充要条件是 $c = 0$.

4. 若 $x \in R$, 则 $x > 1$ 的一个必要不充分条件是 $x \geq 0$.

5. 用“充分不必要条件, 必要不充分条件, 充要条件和既不充分也不必要条件”填空.

(1) $\begin{cases} x > 2, \\ y > 2. \end{cases}$ 是 $\begin{cases} x + y > 4, \\ xy > 4. \end{cases}$ 的 _____ 条件;

(2) $(x-4)(x+1) \geq 0$ 是 $\frac{x-4}{x+1} \geq 0$ 的 _____ 条件;

(3) $x + y \neq 3$ 是 $x \neq 1$ 或 $y \neq 2$ 的 _____ 条件.

解: (1) 因为 $\begin{cases} x > 2, \\ y > 2. \end{cases}$ 结合不等式性质易得 $\begin{cases} x + y > 4, \\ xy > 4. \end{cases}$, 反之不成立, 若 $x = \frac{1}{2}$, $y = 10$,

有 $\begin{cases} x + y > 4, \\ xy > 4. \end{cases}$, 但 $\begin{cases} x > 2, \\ y > 2. \end{cases}$ 不成立, 所以 $\begin{cases} x > 2, \\ y > 2. \end{cases}$ 是 $\begin{cases} x + y > 4, \\ xy > 4. \end{cases}$ 的充分不必要条件.

(2) 因为 $(x-4)(x+1) \geq 0$ 的解集为 $[-1, 4]$, $\frac{x-4}{x+1} \geq 0$ 的解集为 $(-1, 4]$, 故

$(x-4)(x+1) \geq 0$ 是 $\frac{x-4}{x+1} \geq 0$ 的必要不充分条件.

(3) 原问题等价其逆否形式, 即判断“ $x = 1$ 且 $y = 2$ 是 $x + y = 3$ 的 _____ 条件”, 故 $x + y \neq 3$ 是 $x \neq 1$ 或 $y \neq 2$ 的充分不必要条件.

6. 已知命题“ $a \geq b \Rightarrow c > d$ ”和“ $a < b \Leftrightarrow e \leq f$ ”都是真命题, 则“ $c \leq d$ ”是“ $e \leq f$ ”的 _____ 条件.

解: 由“ $a \geq b \Rightarrow c > d$ ” \Leftrightarrow “ $c \leq d \Rightarrow a < b$ ”, 且 $a < b \Leftrightarrow e \leq f$, 即:

$$c \leq d \Rightarrow a < b \Leftrightarrow e \leq f,$$

\therefore 应为充分条件.

7. 设集合 $M = \{x | x > 2\}$, $P = \{x | x < 3\}$, 则“ $x \in (M \cup P)$ ”是“ $x \in (M \cap P)$ ”的 _____ 必要不充分 _____ 条件.

8. 已知 p 是 r 的充分条件而不是必要条件, q 是 r 的充分条件, s 是 r 的必要条件, q 是 s 的

必要条件。现有下列命题：

① s 是 q 的充要条件；② p 是 q 的充分条件而不是必要条件；③ r 是 q 的必要条件而不是充分条件；④ $\neg p$ 是 $\neg s$ 的必要条件而不是充分条件；⑤ r 是 s 的充分条件而不是必要条件，其中正确命题序号是 ①②④。

【能力提高】

9. 已知条件 $p: A = \{x \in \mathbb{R} \mid x^2 + ax + 1 \leq 0\}$ ，条件 $q: B = \{x \in \mathbb{R} \mid x^2 - 3x + 2 \leq 0\}$ 。若 $\neg q$ 是 $\neg p$ 的充分不必要条件，求实数 a 的取值范围。

解： $q: B = \{x \in \mathbb{R} \mid 1 \leq x \leq 2\}$ ，若 $\neg q$ 是 $\neg p$ 的充分不必要条件，则 $A \subseteq B$ 。

若 $A = \emptyset$ ，则 $a^2 - 4 < 0$ ，即 $-2 < a < 2$ ；

$$\text{若 } A \neq \emptyset, \text{ 则 } \begin{cases} a^2 - 4 \geq 0, \\ \frac{-a - \sqrt{a^2 - 4}}{2} \leq x \leq \frac{-a + \sqrt{a^2 - 4}}{2}, \end{cases} \text{ 解得 } -\frac{5}{2} \leq a \leq -2.$$

综上所述， $-\frac{5}{2} \leq a < 2$ 。

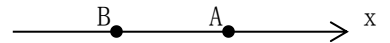
第 7 讲 不等式的基本性质

一、知识梳理

1、不等式公理

我们知道，实数与数轴上的点是一一对应的。在数轴上不同的两点中，右边的点表示的实数比左边的点表示的实数大。

在右图中，点 A 表示实数 a ，点 B 表示实数 b ，点 A 在点 B 右边，那么 $a > b$ 。



而 $a - b$ 表示 a 减去 b 所得的差，由于 $a > b$ ，则差是一个正数，即 $a - b > 0$ 。

命题：“若 $a > b$ ，则 $a - b > 0$ ”成立；逆命题“若 $a - b > 0$ ，则 $a > b$ ”也正确。

类似地：若 $a < b$ ，则 $a - b < 0$ ；若 $a = b$ ，则 $a - b = 0$ 。逆命题也都正确。

结论：(1) “ $a > b$ ” \Leftrightarrow “ $a - b > 0$ ”

(2) “ $a = b$ ” \Leftrightarrow “ $a - b = 0$ ”

(3) “ $a < b$ ” \Leftrightarrow “ $a - b < 0$ ” ——以上三条即为比较大小的依据：“作差比较法”。

正负数运算性质：

(1) 正数加正数是正数；(2) 正数乘正数是正数；(3) 正数乘负数是负数；(4) 负数乘负

数是正数。

2、不等式的基本性质

(1) 如果 $a > b$ ，那么 $b < a$ ，如果 $b < a$ ，那么 $a > b$ 。（对称性）

(2) 如果 $a > b$ ，且 $b > c$ ，那么 $a > c$ 。（传递性）

(3) 如果 $a > b$ ，那么 $a + c > b + c$ 。即 $a > b \Rightarrow a + c > b + c$ 。

(4) 如果 $a > b$ ，且 $c > d$ ，那么 $a + c > b + d$ 。（相加法则）

(5) 如果 $a > b$ ，且 $c > 0$ ，那么 $ac > bc$ ；

如果 $a > b$ ，且 $c < 0$ ，那么 $ac < bc$

(6) 如果 $a > b > 0$ ，且 $c > d > 0$ ，那么 $ac > bd$ 。（相乘法则）

(7) 若 $a > b > 0$ ，则 $a^n > b^n$ ($n \in N$ 且 $n > 1$)

(8) 若 $a > b > 0$ ，则 $\sqrt[n]{a} > \sqrt[n]{b}$ ($n \in N$ 且 $n > 1$)

二、例题解析

题型 1、利用不等式的性质判断

*例 1、若 $a < b < 0$ ，则下列不等关系中不能成立的是（ ）

A. $\frac{1}{a} > \frac{1}{b}$ B. $\frac{1}{a-b} > \frac{1}{a}$ C. $|a| > |b|$ D. $a^2 > b^2$

解：∵ $a < b < 0$ ，∴ $-a > -b > 0$ 。由 $\frac{1}{-a} < \frac{1}{-b}$ ， $\frac{1}{a} > \frac{1}{b}$ ，∴ (A) 成立。

由 $a < b < 0$ ， $|a| > |b|$ ，∴ (C) 成立。

由 $-a > -b > 0$ ， $(-a)^2 > (-b)^2$ ， $a^2 > b^2$ ，∴ (D) 成立。

∵ $a < b < 0$ ， $a - b < 0$ ， $a < a - b < 0$ ， $-a > b - a > 0$ ，

$\frac{1}{-a} < \frac{1}{-(a-b)}$ ， $\frac{1}{a} > \frac{1}{a-b}$ ，∴ (B) 不成立。故应选 B。

*例 2、判断下列命题是否正确，并说明理由。

(1) 若 $a < b < 0$ ，则 $a < b < 0$ ；(2) 若 $a < b < 0$ ，则 $a < b < 0$ ；

(3) $a < b < 0$ ， $a < b < 0$ ，则 $a < b < 0$ ；(4) 若 $a < b < 0$ ，则 $a < b < 0$ 。

解：(1) 错误。当 $c = 0$ 时不成立。

(2) 正确。∵ $c^2 \neq 0$ 且 $c^2 > 0$, 在 $\frac{a}{c^2} > \frac{b}{c^2}$ 两边同乘以 c^2 , 不等式方向不变。∴ $a > b$ 。

(3) 错误。 $a > b \Leftrightarrow \frac{1}{a} < \frac{1}{b}$, 成立条件是 $ab > 0$ 。

(4) 错误。 $a > b, c > d \Leftrightarrow ac > bd$, 当 a, b, c, d 均为正数时成立。

****例 3**、若 $a > b > 0, c < d < 0, e < 0$, 求证: $\frac{e}{a-c} > \frac{e}{b-d}$ 。

解: ∵ $c < d < 0, -c > -d > 0$, 又 $a > b > 0$ ∴ $a-c > b-d > 0$, 故 $\frac{1}{a-c} < \frac{1}{b-d}$ 。

而 $e < 0$, ∴ $\frac{e}{a-c} > \frac{e}{b-d}$

****例 4**、判断下列各命题的真假, 并说明理由。

(1) 若 $ac^2 > bc^2$, 则 $a > b$ 。

(2) 若 $a > b$, 则 $\frac{1}{a} < \frac{1}{b}$ 。

(3) 若 $a < b, c < 0$, 则 $\frac{c}{a} < \frac{c}{b}$ 。

(4) 若 $a > b, c > d$, 则 $a-c > b-d$ 。

(5) 若 $a > b > 0, a > c$, 则 $a^2 > bc$ 。

(6) 若 $a > b, m \in N^*$, 则 $a^m > b^m$ 。

解: (1) 真命题 (2) 假命题 (3) 假命题 (4) 假命题 (5) 真命题 (6) 假命题

说明: 在利用不等式的性质解题时, 一定要注意性质定理成立的条件. 要说明一个命题是假命题可通过举反例。

****例 5**、已知三个不等式: ① $ab > 0$; ② $\frac{c}{a} > \frac{d}{b}$; ③ $bc > ad$ 。以其中两个作条件, 余下

一个作结论, 则可组成_____个正确命题。

解: 对命题②作等价变形: $\frac{c}{a} > \frac{d}{b} \Leftrightarrow \frac{bc-ad}{ab} > 0$

于是, 由 $ab > 0, bc > ad$, 可得②成立, 即①③ \Rightarrow ②;

若 $ab > 0, \frac{bc-ad}{ab} > 0$, 则 $bc > ad$, 故①② \Rightarrow ③;

若 $bc > ad$, $\frac{bc-ad}{ab} > 0$, 则 $ab > 0$, 故②③ \Rightarrow ①。

\therefore 可组成 3 个正确命题。

题型 2、利用性质求不等式范围

****例 6**、已知① $-1 \leq a+b \leq 1$; ② $1 \leq a-b \leq 3$, 求: $3a-b$ 的取值范围。

解 : 设 : $3a-b = x(a+b) + y(a-b) = (x+y)a + (x-y)b$

$$\therefore \begin{cases} x+y=3 \\ x-y=-1 \end{cases} \quad \therefore \begin{cases} x=1 \\ y=2 \end{cases}$$

由①+② $\times 2$ 得: $-1+2 \leq (a+b)+2(a-b) \leq 1+3 \times 2$ 即: $1 \leq 3a-b \leq 7$ 。

说明: 此题的一种典型错误做法, 如下:

$$\because -1 \leq a+b \leq 1, 1 \leq a-b \leq 3, \quad \therefore 0 \leq 2a \leq 4, \quad \text{即} \quad :$$

$$0 \leq a \leq 2 \quad \begin{array}{l} \because -1 \leq a+b \leq 1, -3 \leq b-a \leq -1 \\ \therefore -4 \leq 2b \leq 0 \end{array}$$

$$\text{即: } -2 \leq b \leq 0, \quad \begin{array}{l} \therefore 0 \leq 3a \leq 6, 0 \leq -b \leq 2, \\ \therefore 0 \leq 3a-b \leq 8 \end{array}$$

此解法的错误原因是因为 a 与 b 是两个相互联系, 相互制约的量, 而不是各自独立的, 当 $a+b$ 取到最大值或最小值时, $a-b$ 不一定能取到最值, 所以用以上方法可能扩大变量的范围。

题型 3、比较大小

***例 7**、比较 $x^2 + y^2$ 与 $xy + x + y - 1$ 的大小

解: $x^2 + y^2 \geq xy + x + y - 1$ 当且仅当取“=”号

****例 8**、比较 $x^6 + 1$ 与 $x^4 + x^2$ 的大小, 其中 $x \in R$

$$\begin{aligned} \text{解: } (x^6 + 1) - (x^4 + x^2) &= x^6 - x^4 - x^2 + 1, \\ &= x^4(x^2 - 1) - (x^2 - 1) = (x^2 - 1)(x^4 - 1), \\ &= (x^2 - 1)(x^2 - 1)(x^2 + 1) = (x^2 - 1)^2(x^2 + 1), \end{aligned}$$

\therefore 当 $x = \pm 1$ 时, $x^6 + 1 = x^4 + x^2$;

当 $x \neq \pm 1$ 时, $x^6 + 1 > x^4 + x^2$.

说明: 两个实数比较大小, 通常用作差法来进行, 其一般步骤是: 第一步: 作差; 第二步: 变形, 常采用配方, 因式分解等恒等变形手段; 第三步: 定号, 贵州省是能确定是大于 0, 还是等于 0, 还是小于 0. 最后得结论. 概括为“三步, 一结论”, 这里的“变形”一步最为关键.

*****例 9、** 若 $m > 0, y > x > 0$, 试比较 $\frac{x+m}{y+m}$ 与 $\frac{x}{y}$ 的大小.

$$\text{解: } \frac{x+m}{y+m} - \frac{x}{y} = \frac{(x+m)y - (y+m)x}{(y+m)y} = \frac{m(y-x)}{(y+m)y}$$

$$\because y > x \therefore y-x > 0 \quad \because y > 0, m > 0 \therefore y+m > 0$$

$$\text{又} \because y > 0, m > 0 \therefore \frac{m(y-x)}{(y+m)y} > 0 \quad \text{则} \frac{x+m}{y+m} > \frac{x}{y}$$

****例 10、** 甲、乙两人连续两天去市场买青菜。甲每次买青菜的数量不变, 乙每次买青菜的费用不变。问甲、乙两人谁购买的方法比较合算?

解: 设第一天青菜单价 a 元/斤, 第二天青菜单价 b 元/斤。

设甲每次买青菜 x 斤, 乙每次买青菜花费 y 元,

$$\therefore \text{甲平均单价为 } \frac{ax+bx}{2x} = \frac{a+b}{2}, \text{ 乙平均单价为 } \frac{2y}{\frac{y}{a} + \frac{y}{b}} = \frac{2ab}{a+b}$$

$$\therefore \frac{a+b}{2} - \frac{2ab}{a+b} = \frac{(a-b)^2}{2(a+b)}$$

$$\therefore (1) a=b \text{ 时, } \frac{a+b}{2} = \frac{2ab}{a+b}; (2) a \neq b \text{ 时, } \frac{a+b}{2} > \frac{2ab}{a+b}$$

由(1)(2)可知: 乙购买的方法比较合算。

题型 4、解含参不等式

****例 11、** 解关于 x 的不等式 $m(x+2) > x+m$ 。

解: $(m-1)x > -m$

(1) 当 $m=1$ 时, $x \in \mathbb{R}$

(2) 当 $m < 1$ 时, $x < -\frac{m}{m-1}$;

(3) 当 $m > 1$ 时, $x > -\frac{m}{m-1}$

反思: (1) 引起讨论的原因是什么? —— $m-1$ 值的不确定性

(2) 如何进行讨论? ——不等式性质

三、基础训练

*1、已知非零实数 a, b 满足 $a > b$ ，则下列不等式成立的是
(D)

A) $a^2 > b^2$ B) $\frac{1}{a} < \frac{1}{b}$ C) $a^2b > ab^2$ D) $\frac{a}{b^2} > \frac{b}{a^2}$

*2、已知 $a, b, c, d \in R$ ，则下列选项正确的是 (C)

A. $a > b \Rightarrow am^2 > bm^2$ B. $\frac{a}{c} > \frac{b}{c} \Rightarrow a > b$ C. $a > b, c > d \Rightarrow a + c > b + d$

D. $a > b \Rightarrow \frac{1}{a} < \frac{1}{b}$

*3、已知 a, b 都是实数，那么“ $a^2 > b^2$ ”是“ $a > b$ ”的 既不充分也不必要 条件。

**4、若 $-1 < \alpha < \beta < 1$ ，则下面各式中恒成立的是
(A)。

(A) $-2 < \alpha - \beta < 0$ (B) $-2 < \alpha - \beta < -1$ (C) $-1 < \alpha - \beta < 0$ (D) $-1 < \alpha - \beta < 1$

解：即 $-1 < \alpha < 1$ ， $-1 < \beta < 1$ 和 $\alpha < \beta$ ，根据不等式的性质，可得 $-1 < -\beta < 1$ ， $\alpha - \beta < 0$ ，
继而得到

$-2 < \alpha - \beta < 2$ 且 $\alpha - \beta < 0$ ，故 $-2 < \alpha - \beta < 0$ ，因此选 A。

*5、比较 $a^2 + b^2$ 与 $2a - 8b - 17$ 的大小

解： $a^2 + b^2 \geq 2a - 8b - 17$ 当且仅当 $\begin{cases} a=1 \\ b=-4 \end{cases}$ 取“=”号

**6、已知 $-1 \leq x + y \leq 1$ ， $1 \leq x - y \leq 3$ ，则 $3x - y$ 的取值范围是 (答： $[1, 7]$)

**7、对于实数 a, b, c 中，给出下列命题：

① 若 $a > b$ ，则 $ac^2 > bc^2$ ； ② 若 $ac^2 > bc^2$ ，则 $a > b$ ； ③ 若 $a < b < 0$ ，则 $a^2 > ab > b^2$ ；

④ 若 $a < b < 0$ ，则 $\frac{1}{a} < \frac{1}{b}$ ； ⑤ 若 $a < b < 0$ ，则 $\frac{b}{a} > \frac{a}{b}$ ； ⑥ 若 $a < b < 0$ ，则 $|a| > |b|$ ； ⑦

若 $c > a > b > 0$ ，则 $\frac{a}{c-a} > \frac{b}{c-b}$ ； ⑧ 若 $a > b$ ， $\frac{1}{a} > \frac{1}{b}$ ，则 $a > 0, b < 0$ 。

其中正确的命题是 (答： ②③⑥⑦⑧)

**8、实数 a, b, c, d 满足条件：① $a < b, c < d$ ；② $(a-c)(b-c) > 0$ ；③

$(a-d)(b-d) < 0$ ，则有(D)

A. $a < c < d < b$ B. $c < a < b < d$ C. $a < c < b < d$ D. $c < a < d < b$

**9、解关于 x 的不等式： $(m^2-4)x < m+2$ 。

解：(1) $m^2-4=0$ 即 $m=-2$ 或 $m=2$

①当 $m=-2$ 时， $x \in \emptyset$

②当 $m=2$ 时， $x \in \mathbb{R}$

(2) $m^2-4 > 0$ 即 $m < -2$ 或 $m > 2$ 时， $x < \frac{1}{m-2}$

(3) $m^2-4 < 0$ 即 $-2 < m < 2$ 时， $x > \frac{1}{m-2}$

反思：(1) 引起讨论的原因是什么？—— m^2-4 值的不确定性

(2) 如何进行讨论？——不等式性质

四、拓展提高

**1、如果 $-\frac{\pi}{2} < \alpha < \beta < \frac{\pi}{2}$ ，则 $2\alpha - \beta$ 的取值范围是_____。

$$\left. \begin{array}{l} \text{解：由 } -\frac{\pi}{2} < \alpha < \frac{\pi}{2} \\ \left. \begin{array}{l} -\frac{\pi}{2} < \beta < \frac{\pi}{2} \Rightarrow -\frac{\pi}{2} < -\beta < \frac{\pi}{2} \\ \alpha < \beta \Rightarrow \alpha - \beta < 0 \end{array} \right\} \Rightarrow -\pi < \alpha - \beta < \pi \\ \Rightarrow -\pi < \alpha - \beta < 0 \end{array} \right\} \begin{array}{l} \\ \\ -\frac{\pi}{2} < \alpha < \frac{\pi}{2} \end{array}$$

$$\Rightarrow -\frac{3}{2}\pi < 2\alpha - \beta < \frac{\pi}{2}; \therefore 2\alpha - \beta \text{ 的取值范围是: } \left(-\frac{3\pi}{2}, \frac{\pi}{2}\right).$$

***2、已知 $a > b > c$ ，且 $a+b+c=0$ ，则 $\frac{c}{a}$ 的取值范围是_____ (答： $\left(-2, -\frac{1}{2}\right)$)

***3、若不等式 $|3x-b| < 4$ 的解集中的整数有且仅有 1, 2, 3，则 b 的取值范围_____。

$$\text{解：由 } |3x-b| < 4 \Leftrightarrow \frac{b-4}{3} < x < \frac{b+4}{3}; \text{ 由条件知: } \begin{cases} 0 \leq \frac{b-4}{3} < 1 \\ 3 < \frac{b+4}{3} \leq 4 \end{cases} \Rightarrow \begin{cases} 4 \leq b < 7 \\ 5 < b \leq 8 \end{cases}$$

$\Rightarrow 5 < b < 7$, $\therefore b$ 的取值范围是: $(5, 7)$ 。

***4、设互不相等的正数 a, b, c 满足 $a^2 + c^2 = 2bc$, 则下列不等式中可能成立的是

(B)

A) $a > b > c$ B) $b > a > c$ C) $b > c > a$ D) $c > a > b$

解: 由 $2bc = a^2 + c^2 > 2ac \Rightarrow b > a$, \therefore A) D) 不正确;

若 $c > a \Rightarrow 2bc = a^2 + c^2 < 2c^2 \Rightarrow b < c$, 则 B) C) 均不正确, $\therefore c < a$, $\therefore b > a > c$;
 \therefore B) 正确。

$5a > b > c$, 则 $\frac{1}{a-b} + \frac{1}{b-c}$ _____ $\frac{3}{a-c}$ 。(填 “>” “=” “<”)

解: 由 $a > b > c \Rightarrow \left(\frac{1}{a-b} + \frac{1}{b-c}\right)(a-c) = \left(\frac{1}{a-b} + \frac{1}{b-c}\right)[(a-b) - (b-c)]$
 $\geq 2\sqrt{\frac{1}{(a-b)(b-c)}} \cdot 2\sqrt{(a-b)(b-c)} = 4$;

$\therefore \frac{1}{a-b} + \frac{1}{b-c} \geq \frac{4}{a-c} > \frac{3}{a-c}$ 。

五、回家作业

1、若 $a > b > c$, 则一定成立的不等式是 (C)

A. $a|c| > b|c|$ B. $ab > ac$ C. $a - |c| > b - |c|$ D. $\frac{1}{a} < \frac{1}{b} < \frac{1}{c}$

2、若 $a < b < 0$, 则下列不等式一定成立的是 (D)

A. $\frac{1}{a-b} > \frac{1}{b}$ B. $a^2 < ab$ C. $a^a > b^a$ D. $|\frac{b}{a}| < \frac{|b|+1}{|a|+1}$

3、已知 $a > b > 0$, 则下列不等式中总成立的是 (A)

A. $a + \frac{1}{b} > b + \frac{1}{a}$ B. $a + \frac{1}{a} > b + \frac{1}{b}$ C. $\frac{b}{a} > \frac{b+1}{a+1}$
D. $b - \frac{1}{b} > a - \frac{1}{a}$

4、已知四个条件: (1) $b > 0 > a$; (2) $0 > a > b$; (3) $a > 0 > b$; (4)
 $a > b > 0$;

能推出 $\frac{1}{a} < \frac{1}{b}$ 成立的有_____个。

解：(1)(2)(4) 能推出 $\frac{1}{a} < \frac{1}{b}$ ，而 (3) 不能， \therefore 能推出 $\frac{1}{a} < \frac{1}{b}$ 成立的有 3 个。

5、求证： $a > b, \frac{1}{a} > \frac{1}{b} \Rightarrow a > 0, b < 0$ 。

证明：利用不等式的性质，得
$$\left. \begin{array}{l} a > b \Rightarrow a - b > 0 \\ \frac{1}{a} > \frac{1}{b} \Rightarrow \frac{1}{b} - \frac{1}{a} < 0 \Rightarrow \frac{a-b}{ab} < 0 \end{array} \right\} \Rightarrow ab < 0,$$

$\left. \begin{array}{l} a, b \text{ 异号} \\ a > b \end{array} \right\} \Rightarrow a > 0, b < 0$ 。

6、比较 $(a+1)^2$ 与 $a^2 - a + 1$ 的值的大小。

解： $(a+1)^2 - (a^2 - a + 1) = 3a$

(1) 当 $a < 0$ 时， $(a+1)^2 < a^2 - a + 1$

(2) 当 $a = 0$ 时， $(a+1)^2 = a^2 - a + 1$

(3) 当 $a > 0$ 时， $(a+1)^2 > a^2 - a + 1$

反思：(1) 比较大小时，等与不等一定要分开讨论！

(2) 分类讨论时，要做到“不遗漏，不重复”！

7、如果一辆汽车每天行驶的路程比原来多 19km ，那么在 8 天内它的行程就超过 2200km ，

如果它每天行驶的路程比原来少 12km ，那么它行驶同样的路程得花 9 天多的时间，这辆汽

车原来每天行驶的路程 (km) 范围是_____。

解：设汽车每天行驶 x ， $\therefore \begin{cases} 8(x+19) > 2200 \\ 9(x-12) < 8(x+19) \end{cases} \Rightarrow 256 < x < 260$ ；

\therefore 汽车原来每天行驶的路程 (km) 范围是：(256, 260)。

8、二次函数 $f(x)$ 图像关于 y 轴对称，且 $1 \leq f(1) \leq 2$ ， $3 \leq f(2) \leq 4$ ，求 $f(3)$ 的范围。

解：设 $f(x) = ax^2 + c$ ($a \neq 0$)。
$$\begin{cases} f(1) = a + c \\ f(2) = 4a + c \end{cases} \Rightarrow \begin{cases} a = \frac{f(2) - f(1)}{3} \\ c = \frac{4f(1) - f(2)}{3} \end{cases}$$

$$f(3) = 9a + c = 3f(2) - 3f(1) + \frac{4f(1) - f(2)}{3} = \frac{8f(2) - 5f(1)}{3}$$

$$\because 1 \leq f(1) \leq 2, \quad 3 \leq f(2) \leq 4,$$

$$\therefore 5 \leq 5f(1) \leq 10, \quad 24 \leq 8f(2) \leq 32, \quad 14 \leq 8f(2) - 5f(1) \leq 27,$$

$$\therefore \frac{14}{3} \leq \frac{8f(2) - 5f(1)}{3} \leq 9, \quad \text{即} \quad \frac{14}{3} \leq f(3) \leq 9.$$

第 8 讲 一元二次不等式的解法

一、知识梳理

(一) 一元二次方程与二次函数

1、一元二次方程的一般形式： $ax^2 + bx + c = 0 (a \neq 0)$ ①其中 a, b, c 为常数， x 为未知数。

根的判别

式： $\Delta = b^2 - 4ac$ ，求根公式：在 $\Delta \geq 0$ 时，方程①的实根 $x_{1,2} = \frac{-b \pm \sqrt{b^2 - 4ac}}{2a}$

一元二次方程根的个数与根的判别式的关系：

- (1) $\Delta < 0$ 时，方程①无实根；
- (2) $\Delta = 0$ 时，方程①有且只有一个实根，或者说方程①有两个相等的实根；
- (3) $\Delta > 0$ 时，方程①有两个不相等的实根。

2、二次函数的一般形式：形如 $y = ax^2 + bx + c (a \neq 0)$ 其中 a, b, c 为常数， x 为自变量。

顶点坐标为 $P\left(-\frac{b}{2a}, \frac{4ac - b^2}{4a}\right)$ ，其中直线 $x = -\frac{b}{2a}$ 为对称轴，

(1) $a < 0$ 时，函数 $y = ax^2 + bx + c$ 的图象开口向下，函数 $y = ax^2 + bx + c$ 在 $x = -\frac{b}{2a}$

取到最大值，即 $y_{\max} = \frac{4ac - b^2}{4a}$ ，对任意 $x \in R, y \leq \frac{4ac - b^2}{4a}$ 。

(2) $a > 0$ 时，函数 $y = ax^2 + bx + c$ 的图象开口向上，函数 $y = ax^2 + bx + c$ 在 $x = -\frac{b}{2a}$

取到最小值，即 $y_{\min} = \frac{4ac - b^2}{4a}$ ，对任意 $x \in R, y \geq \frac{4ac - b^2}{4a}$ 。

3、二次函数 $y = ax^2 + bx + c$ ($a \neq 0$) 与 x 轴交点个数的判断：

(1) $\Delta < 0$ 时，函数 $y = ax^2 + bx + c$ ($a \neq 0$) 与 x 轴无交点；

(2) $\Delta = 0$ 时，函数 $y = ax^2 + bx + c$ ($a \neq 0$) 与 x 轴相切，有且只有一个交点；

(3) $\Delta > 0$ 时，函数 $y = ax^2 + bx + c$ ($a \neq 0$) 与 x 轴有两个交点。

(二) 一元二次不等式

1、一元二次不等式的定义

只含有一个未知数，并且未知数的最高次数是 2 的不等式，称为一元二次不等式。比如：

$$x^2 - 5x < 0.$$

任意的一元二次不等式，总可以化为一般形式： $ax^2 + bx + c > 0$ ($a > 0$) 或

$$ax^2 + bx + c < 0$$
 ($a > 0$)

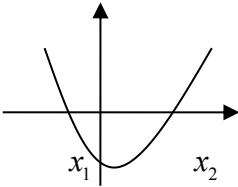
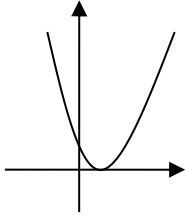
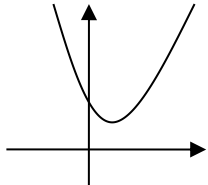
2、一般的一元二次不等式的解法

一元二次不等式 $ax^2 + bx + c > 0$ (< 0) ($a > 0$) 的解集可以联系二次函数 $y = ax^2 + bx + c$ ($a \neq 0$) 的图像，图像在 x 轴上方部分对应的横坐标 x 值的集合为不等式 $ax^2 + bx + c > 0$ 的解集，图像在 x 轴下方部分对应的横坐标 x 值的集合为不等式 $ax^2 + bx + c < 0$ 的解集。

设一元二次方程 $ax^2 + bx + c = 0$ ($a \neq 0$) 的两根为 x_1, x_2 且 $x_1 \leq x_2$ ， $\Delta = b^2 - 4ac$ ，则相应的不等式的解集的各种情况如下表：

三个二次（一元二次方程、一元二次不等式、二次函数）之间的关系

Δ	$\Delta > 0$	$\Delta = 0$	$\Delta < 0$
三个二次			

$y = ax^2 + bx + c$ ($a > 0$) 图像			
$ax^2 + bx + c = 0$ ($a > 0$) 根	$x = x_1$ 或 $x = x_2$	$x_1 = x_2 = -\frac{b}{2a}$	无解
$ax^2 + bx + c > 0$ ($a > 0$) 解集	$\{x x < x_1 \text{ 或 } x > x_2\}$	$\left\{x \mid x \neq -\frac{b}{2a}\right\}$	R
$ax^2 + bx + c < 0$ ($a > 0$) 解集	$\{x x_1 < x < x_2\}$	\emptyset	\emptyset
$ax^2 + bx + c \geq 0$ ($a > 0$) 解集	$\{x x \leq x_1 \text{ 或 } x \geq x_2\}$	R	R
$ax^2 + bx + c \leq 0$ ($a > 0$) 解集	$\{x x_1 \leq x \leq x_2\}$	$\left\{x \mid x = -\frac{b}{2a}\right\}$	\emptyset

注意:

- 一元二次方程 $ax^2 + bx + c = 0$ ($a \neq 0$) 的两根 x_1 、 x_2 是相应的不等式的解集的端点的取值, 是抛物线 $y = ax^2 + bx + c$ 与 x 轴的交点的横坐标;
- 表中不等式的二次系数均为正, 如果不等式的二次项系数为负, 应先利用不等式的性质转化为二次项系数为正的形式, 然后讨论解决;
- 解集分 $\Delta > 0, \Delta = 0, \Delta < 0$ 三种情况, 得到一元二次不等式 $ax^2 + bx + c > 0$ 与 $ax^2 + bx + c < 0$ 的解集。

3、区间的表示

设 a, b 均为实数, 且 $a < b$,

含 义	名 称	区 间 表 示	数 轴 表 示
$\{x a \leq x \leq b\}$	闭 区 间	$[a, b]$	
$\{x a < x < b\}$			

$\{x a < x \leq b\}$			
$\{x a \leq x < b\}$			
R			
$\{x x > a\}$			
$\{x x \geq a\}$			
$\{x x < a\}$			
$\{x x \leq a\}$			

①其中, a, b 叫做相应区间的_____。

②符号“ ∞ ”读作_____,“ $+\infty$ ”读作_____,“ $-\infty$ ”读作_____。

4、解一元二次不等式的步骤

(1) 先看二次项系数是否为正, 若为负, 则将二次项系数化为正数;

(2) 写出相应的方程 $ax^2 + bx + c = 0$ ($a > 0$), 计算判别式 Δ :

① $\Delta > 0$ 时, 求出两根 x_1, x_2 , 且 $x_1 < x_2$ (注意灵活运用因式分解和配方法);

② $\Delta = 0$ 时, 求根 $x_1 = x_2 = -\frac{b}{2a}$;

③ $\Delta < 0$ 时, 方程无解

(3) 根据不等式, 写出解集.

规律方法指导

(1) 解一元二次不等式首先要看二次项系数 a 是否为正; 若为负, 则将其变为正数;

(2) 若相应方程有实数根, 求根时注意灵活运用因式分解和配方法;

(3) 写不等式的解集时首先应判断两根的大小, 若不能判断两根的大小应分类讨论;

(4) 根据不等式的解集的端点恰为相应的方程的根, 我们可以利用韦达定理, 找到不等式的解集与其系数之间的关系;

(5) 若所给不等式最高项系数含有字母, 还需要讨论最高项的系数。

二、例题解析

*例 1、解下列一元二次不等式

$$(1) x^2 - 5x < 0; \quad (2) x^2 - 4x + 4 > 0; \quad (3) -x^2 + 4x - 5 > 0$$

解: (1) $\{x | 0 < x < 5\}$ (2) $\{x | x \neq 2\}$ (3) \emptyset

***例 2、**解下列不等式

$$(1) 2x^2 - 3x - 2 > 0; \quad (2) -3x^2 + 6x - 2 > 0 \quad (3) 4x^2 - 4x + 1 \leq 0; \quad (4) -x^2 + 2x - 3 > 0.$$

解: (1) $\{x | x < -\frac{1}{2} \text{ 或 } x > 2\}$ (2) $(1 - \frac{\sqrt{3}}{3}, 1 + \frac{\sqrt{3}}{3})$. (3) $\{\frac{1}{2}\}$. (4)

\emptyset .

****例 3、**解不等式: $-6 \leq x^2 - x - 6 < 6$

解: 原不等式可化为不等式组 $\begin{cases} x^2 - x - 6 < 6 \\ -6 \leq x^2 - x - 6 \end{cases}$, 即 $\begin{cases} x^2 - x - 12 < 0 \\ x^2 - x \geq 0 \end{cases}$, 即

$$\begin{cases} (x-4)(x+3) < 0 \\ x(x-1) \geq 0 \end{cases},$$

解得 $\begin{cases} -3 < x < 4 \\ x \geq 1 \text{ 或 } x \leq 0 \end{cases}$, \therefore 原不等式的解集为 $\{x | -3 < x \leq 0 \text{ 或 } 1 \leq x < 4\}$.

****例 4、**不等式 $x^2 + mx - n < 0$ 的解集为 $x \in (4, 5)$, 求关于 x 的不等式 $nx^2 + mx - 1 > 0$ 的解集。

解: 由题意可知方程 $x^2 + mx - n = 0$ 的两根为 $x = 4$ 和 $x = 5$

$$\text{由韦达定理有 } 4 + 5 = -m, \quad 4 \times 5 = -n \quad \therefore m = -9, \quad n = -20$$

$$\therefore nx^2 + mx - 1 > 0 \text{ 化为 } -20x^2 - 9x - 1 > 0, \text{ 即 } 20x^2 + 9x + 1 < 0$$

$$(4x+1)(5x+1) < 0, \text{ 解得 } -\frac{1}{4} < x < -\frac{1}{5},$$

故不等式 $nx^2 + mx - 1 > 0$ 的解集为 $(-\frac{1}{4}, -\frac{1}{5})$.

变式: 若关于 x 的不等式 $ax^2 + bx + 6 > 0$ 的解集为 $(-3, 5)$, 求 a, b

解: $a = -\frac{2}{5}, b = \frac{4}{5}$

****例 5、**已知关于 x 的不等式 $(m^2+4m-5)x^2-4(m-1)x+3>0$ 对一切实数 x 恒成立, 求实数 m 的取值范围。

解: (1) 当 $m^2+4m-5=0$ 时, $m=1$ 或 $m=-5$

若 $m=1$, 则不等式化为 $3>0$, 对一切实数 x 成立, 符合题意。

若 $m=-5$, 则不等式为 $24x+3>0$, 不满足对一切实数 x 均成立, 所以 $m=-5$ 舍去。

(2) 当 $m^2+4m-5 \neq 0$ 即 $m \neq 1$ 且 $m \neq -5$ 时,

由此一元二次不等式的解集为 \mathbb{R} 知, 抛物线 $y=(m^2+4m-5)x^2-4(m-1)x+3$ 开口向上, 且与 x 轴无交点,

$$\text{所以 } \begin{cases} m^2 + 4m - 5 > 0 \\ \Delta = 16(m-1)^2 - 12(m^2 + 4m - 5) < 0 \end{cases},$$

$$\text{即 } \begin{cases} m > 1 \text{ 或 } m < -5 \\ 1 < m < 19 \end{cases}, \quad \therefore 1 < m < 19.$$

综上所述, 实数 m 的取值范围是 $\{m | 1 \leq m < 19\}$ 。

****例 6、**若关于 x 的不等式 $mx^2 - (2m+1)x + m - 1 \geq 0$ 的解集为空集, 求 m 的取值范围。

解: 关于 x 的不等式 $mx^2 - (2m+1)x + m - 1 \geq 0$ 的解集为空集 即 $mx^2 - (2m+1)x + m - 1 < 0$ 的解集为 \mathbb{R}

当 $m=0$ 时, 原不等式为: $-x-1 \geq 0$, 即 $x \leq -1$, 不符合题意, 舍去。

当 $m \neq 0$ 时, 原不等式为一元二次不等式, 只需 $m < 0$ 且 $\Delta < 0$,

$$\text{即 } \begin{cases} (2m+1)^2 - 4m(m-1) < 0 \\ m < 0 \end{cases}, \text{ 解得 } m < -\frac{1}{8},$$

综上所述, m 的取值范围为: $m \in (-\infty, -\frac{1}{8})$ 。

****例 7、**解关于 x 的一元二次不等式 $x^2 - (3+a)x + 3a > 0$ 。

解: 由 $x^2 - (3+a)x + 3a > 0 \Leftrightarrow (x-3)(x-a) > 0$;

(1) 当 $a < 3$ 时, 解集是: $(-\infty, a) \cup (3, +\infty)$;

(2) 当 $a=3$ 时, 解集是: $(-\infty, 3) \cup (3, +\infty)$;

(3) 当 $a>3$ 时, 解集是: $(-\infty, 3) \cup (a, +\infty)$ 。

****例 8、解关于 x 的不等式: $ax^2 - 2(a+1)x + 4 < 0$ 。

解: 由 $ax^2 - 2(a+1)x + 4 < 0 \Leftrightarrow (ax-2)(x-2) < 0$, 且 $2 - \frac{2}{a} = \frac{2(a-1)}{a}$;

(1) 当 $a>1$ 时, $2 > \frac{2}{a}$, \therefore 解集是: $\left(\frac{2}{a}, 2\right)$;

(2) 当 $a=1$ 时, $2 = \frac{2}{a}$, \therefore 解集是: ϕ ;

(3) 当 $0 < a < 1$ 时, $2 < \frac{2}{a}$, \therefore 解集是: $\left(2, \frac{2}{a}\right)$;

(4) 当 $a=0$ 时, $x > 2$, \therefore 解集是: $(2, +\infty)$;

(5) 当 $a < 0$ 时, $(-ax+2)(x-2) > 0$, \therefore 解集是: $\left(-\infty, \frac{2}{a}\right) \cup (2, +\infty)$ 。

三、基础训练

*1、不等式 $x^2 > x$ 的解集是_____。

解: 由 $x^2 > x \Leftrightarrow x < 0$ 或 $x > 1$, \therefore 解集是: $(-\infty, 0) \cup (1, +\infty)$ 。

**2、不等式 $(a-2)x^2 + 2(a-2)x - 4 < 0$, 对一切 $x \in R$ 恒成立, 则 a 的取值范围_____。

解: (1) 当 $a=2$ 时, 显然成立;

(2) 当 $a \neq 2$ 时, $\therefore \begin{cases} a-2 < 0 \\ \Delta < 0 \end{cases} \Rightarrow \begin{cases} a < 2 \\ -2 < a < 2 \end{cases} \Rightarrow -2 < a < 2$;

\therefore 由 (1) (2) 知 a 的取值范围是: $(-2, 2]$ 。

*3、解下列不等式:

(1) $-2x^2 - 5x + 3 > 0$;

(2) $-1 \leq x^2 + 2x - 1 \leq 2$;

解 (1) $\{x \mid -3 < x < \frac{1}{2}\}$; (2) $\{x \mid -3 \leq x \leq -2 \text{ 或 } 0 \leq x \leq 1\}$

**4、不等式 $ax^2 + 4x + a > 1 - 2x^2$ 对一切 $x \in \mathbf{R}$ 恒成立, 则实数 a 的取值范围是_____.

解: $(2, +\infty)$

**5、已知 $ax^2 + 2x + c > 0$ 的解为 $-\frac{1}{3} < x < \frac{1}{2}$, 试求 a, c , 并解不等式 $-cx^2 + 2x - a > 0$.

解: 由韦达定理有: $-\frac{1}{3} + \frac{1}{2} = -\frac{2}{a}$, $-\frac{1}{3} \cdot \frac{1}{2} = \frac{c}{a}$, $\therefore a = -12, c = 2$.

\therefore 代入不等式 $-cx^2 + 2x - a > 0$ 得 $-2x^2 + 2x + 12 > 0$,

即 $x^2 - x - 6 < 0$, $(x-3)(x+2) < 0$, 解得 $-2 < x < 3$,

故不等式 $-cx^2 + 2x - a > 0$ 的解集为: $(-2, 3)$.

**6、解关于 x 的不等式 $x^2 - (a+1)x + a < 0$.

解: 原不等式可化为 $(x-a)(x-1) < 0$.

当 $a > 1$ 时, 原不等式的解集为 $(1, a)$;

当 $a = 1$ 时, 原不等式的解集为空集;

当 $a < 1$ 时, 原不等式的解集为 $(a, 1)$.

***7、若关于 x 的不等式 $mx^2 - (2m+1)x + m - 1 \geq 0$ 的解为一切实数, 求 m 的取值范围.

解: 当 $m = 0$ 时, 原不等式为: $-x - 1 \geq 0$, 即 $x \leq -1$, 不符合题意, 舍去.

当 $m \neq 0$ 时, 原不等式为一元二次不等式, 只需 $m > 0$ 且 $\Delta \geq 0$,

$$\text{即 } \begin{cases} (2m+1)^2 - 4m(m-1) \geq 0 \\ m > 0 \end{cases}, \text{ 解得 } m > 0,$$

综上, m 的取值范围为: $m \in (0, +\infty)$.

**8、若关于 x 的不等式 $mx^2 - (2m+1)x + m - 1 \geq 0$ 的解集为非空集, 求 m 的取值范围.

解: 当 $m = 0$ 时, 原不等式为: $-x - 1 \geq 0$, 即 $x \leq -1$, 符合题意.

当 $m > 0$ 时, 原不等式为一元二次不等式, 显然也符合题意

$$\text{当 } m < 0 \text{ 时, 只需 } \Delta \geq 0, \text{ 即 } \begin{cases} (2m+1)^2 - 4m(m-1) \geq 0 \\ m < 0 \end{cases}, \text{ 解得 } -\frac{1}{8} \leq m < 0,$$

综上, m 的取值范围为: $m \in [-\frac{1}{8}, +\infty)$.

**9、已知方程 $ax^2+bx+2=0$ 的两根为 $-\frac{1}{2}$ 和 2 。

(1) 求 a 、 b 的值；

(2) 解不等式 $ax^2+bx-1>0$ 。

解：(1) \because 方程 $ax^2+bx+2=0$ 的两根为 $-\frac{1}{2}$ 和 2 ，由根与系数的关系，得
$$\begin{cases} -\frac{1}{2}+2=-\frac{b}{a} \\ -\frac{1}{2}\times 2=\frac{2}{a} \end{cases},$$

解得 $a=-2$ ， $b=3$ 。

(2) 由(1)知， $ax^2+bx-1>0$ 变为 $-2x^2+3x-1>0$ ，即 $2x^2-3x+1<0$ ，解得 $\frac{1}{2}<x<1$ 。

\therefore 不等式 $ax^2+bx-1>0$ 的解集为 $\{x|\frac{1}{2}<x<1\}$ 。

四、拓展提高

**1、若关于 x 的不等式 $\frac{ax}{x-1}<1$ 的解集是 $\{x|x<1$ 或 $x>2\}$ ，求实数 a 的值。

解： $\frac{ax}{x-1}<1 \Leftrightarrow \frac{(a-1)x+1}{x-1}<0 \Leftrightarrow [(a-1)x+1](x-1)<0$ ，由原不等式的解集是 $\{x|x<1$ 或 $x>2\}$ ，

$$\text{知} \begin{cases} a-1<0, \\ -\frac{1}{a-1}=2 \Rightarrow a=\frac{1}{2}. \end{cases}$$

**2、求不等式 $12x^2-ax>a^2$ ($a \in \mathbf{R}$) 的解集。

解： $\because 12x^2-ax>a^2$ ， $\therefore 12x^2-ax-a^2>0$ ，即 $(4x+a)(3x-a)>0$ ，令 $(4x+a)(3x-a)=0$ ，

$$\text{得：} x_1=-\frac{a}{4}, x_2=\frac{a}{3}.$$

① $a>0$ 时， $-\frac{a}{4}<\frac{a}{3}$ ，解集为 $\{x|x<-\frac{a}{4}$ 或 $x>\frac{a}{3}\}$ ；

② $a=0$ 时， $x^2>0$ ，解集为 $\{x|x \in \mathbf{R}$ 且 $x \neq 0\}$ ；

③ $a<0$ 时， $-\frac{a}{4}>\frac{a}{3}$ ，解集为 $\{x|x<\frac{a}{3}$ 或 $x>-\frac{a}{4}\}$ 。

综上所述：当 $a>0$ 时，不等式的解集为 $\{x|x<-\frac{a}{4}$ 或 $x>\frac{a}{3}\}$ ；

当 $a=0$ 时，不等式的解集为 $\{x|x \in \mathbf{R}$ 且 $x \neq 0\}$ ；

当 $a<0$ 时，不等式的解集为 $\{x|x<\frac{a}{3}$ 或 $x>-\frac{a}{4}\}$ 。

***3、已知二次函数 $f(x) = ax^2 + bx + c$ ($a, b, c \in \mathbf{R}$) 满足: 对任意实数 x , 都有 $f(x) \geq x$,

且当 $x \in (1, 3)$ 时, 有 $f(x) \leq \frac{1}{8}(x+2)^2$ 成立;

(1) 证明: $f(2) = 2$;

(2) 若 $f(-2) = 0$, 求 $f(x)$ 的表达式;

解: (1) 由条件知: $f(2) = 4a + 2b + c \geq 2$ 恒成立, 且 $f(2) \leq \frac{1}{8}(2+2)^2 = 2$ 成立, \therefore

$f(2) = 2$;

$$(2) \text{ 由 } \begin{cases} f(2) = 2 \\ f(-2) = 0 \end{cases} \Rightarrow \begin{cases} 4a + 2b + c = 2 \\ 4a - 2b + c = 0 \end{cases} \Rightarrow 4a + c = 2b = 1 \Rightarrow \begin{cases} b = \frac{1}{2} \\ c = 1 - 4a \end{cases};$$

由 $f(x) \geq x$ 恒成立, $\therefore ax^2 + (b-1)x + c \geq 0$ 恒成立, \therefore

$$\begin{cases} a > 0 \\ \Delta \leq 0 \end{cases} \Rightarrow \begin{cases} a > 0 \\ \left(4a - \frac{1}{2}\right)^2 \leq 0 \end{cases}$$

$$\Rightarrow a = \frac{1}{8}, b = c = \frac{1}{2}, \therefore f(x) = \frac{1}{8}x^2 + \frac{1}{2}x + \frac{1}{2};$$

***4、对任意 $a \in [-1, 1]$ 不等式 $x^2 + (a-4)x + 4 - 2a > 0$ 恒成立, 则实数 x 的取值范围是_____.

解: 设 $f(a) = (x-2)a + x^2 - 4x + 4$, 则原问题可转化为一次函数 (或常数函数) $f(a)$ 在区

间 $[-1, 1]$ 上恒正时 x 应满足的条件, 故应有 $\begin{cases} f(-1) > 0, \\ f(1) > 0. \end{cases}$ 即 $\begin{cases} x^2 - 5x + 6 > 0, \\ x^2 - 3x + 2 > 0, \end{cases}$

化为 $\begin{cases} (x-2)(x-3) > 0, \\ (x-1)(x-2) > 0. \end{cases}$ 解之, 得 $x < 1$ 或 $x > 3$.

【答案】 $x < 1$ 或 $x > 3$

五、回家作业

1、下列不等式的解集是 \emptyset 的为 ()

A. $x^2 + 2x + 1 \leq 0$ B. $\sqrt{x^2} \leq 0$ C. $\left(\frac{1}{2}\right)^x - 1 < 0$ D. $\frac{1}{x} - 3 > \frac{1}{x}$

2、若 $x^2 - 2ax + 2 \geq 0$ 在 \mathbf{R} 上恒成立, 则实数 a 的取值范围是 (D)

A. $(-\sqrt{2}, \sqrt{2}]$ B. $(-\sqrt{2}, \sqrt{2})$ C. $[-\sqrt{2}, \sqrt{2})$ D. $[-\sqrt{2}, \sqrt{2}]$

3、已知不等式 $ax^2+bx+c<0$ ($a\neq 0$) 的解集是 \mathbf{R} , 则 (B)

A. $a<0, \Delta>0$ B. $a<0, \Delta<0$ C. $a>0, \Delta<0$ D. $a>0, \Delta>0$

4、不等式 $2x^2+mx+n>0$ 的解集是 $\{x|x>3 \text{ 或 } x<-2\}$, 则二次函数 $y=2x^2+mx+n$ 的表达式是 (D)

A. $y=2x^2+2x+12$ B. $y=2x^2-2x+12$ C. $y=2x^2+2x-12$ D. $y=2x^2-2x-12$

5、不等式 $x^2+mx+\frac{m}{2}>0$ 恒成立的条件是_____.

答案: $0<m<2$

6、设 $x\in\mathbf{R}$, 则 “ $x>\frac{1}{2}$ ” 是 “ $2x^2+x-1>0$ ” 的 (A)

A. 充分而不必要条件 B. 必要而不充分条件 C. 充分必要条件 D. 既不充分也不必要条件

解: $2x^2+x-1>0$ 的解集为 $\{x|x>\frac{1}{2} \text{ 或 } x<-1\}$, 故由 $x>\frac{1}{2}\Rightarrow 2x^2+x-1>0$, 但 $2x^2+x-1>0\nRightarrow x>\frac{1}{2}$.

$1>0\nRightarrow x>\frac{1}{2}$.

则 “ $x>\frac{1}{2}$ ” 是 “ $2x^2+x-1>0$ ” 的充分不必要条件.

7、若函数 $y=\sqrt{kx^2-6kx+k+8}$ 的定义域是 \mathbf{R} , 求实数 k 的取值范围.

解: ①当 $k=0$ 时, $kx^2-6kx+k+8=8$ 满足条件;

②当 $k>0$ 时, 必有 $\Delta=(-6k)^2-4k(k+8)\leq 0$,

解得 $0<k\leq 1$. 综上, $0\leq k\leq 1$.

8、求下列关于 x 的不等式的解集:

(1) $-x^2+7x>6$;

(2) $x^2-(2m+1)x+m^2+m<0$. [新课标第一网](#)

解: (1) $\{x|1<x<6\}$. (2) $\{x|m<x<m+1\}$.

9、解不等式 $0\leq x^2-x-2\leq 4$.

解: 原不等式等价于 $\begin{cases} x^2-x-2\geq 0, \\ x^2-x-2\leq 4, \end{cases} = \{x|-2\leq x\leq -1 \text{ 或 } 2\leq x\leq 3\}$.

10、已知关于 x 的不等式 $x^2+ax+b<0$ 的解集为 $(1,2)$, 求关于 x 的不等式 $bx^2+ax+1>0$ 的解集.

解：由韦达定理有： $\begin{cases} -a=1+2 \\ b=1\times 2 \end{cases}$ ，解得 $\begin{cases} a=-3 \\ b=2 \end{cases}$ ，代入不等式 $bx^2+ax+1>0$ 得

$$2x^2-3x+1>0,$$

即 $(2x-1)(x-1)>0$ ，解得 $x<\frac{1}{2}$ 或 $x>1$ 。

$\therefore bx^2+ax+1>0$ 的解集为： $(-\infty, \frac{1}{2}) \cup (1, +\infty)$ 。

第 9 讲 其他不等式的解法

【知识梳理】

1. 分式不等式

(1) 分母上带有未知数的不等式称为分式不等式。

(2) 一般特征：可以化为形如 $\frac{f(x)}{g(x)}>0$ 或 $\frac{f(x)}{g(x)}<0$ ，其中 $f(x), g(x)$ 为整式， $g(x)\neq 0$ 的

形式。

2. 同解原理

(1) 如果两个不等式的解集相等，那么这两个不等式就叫做同解不等式，一个不等式变形为另一个不等式时，如果两个不等式是同解不等式，这种变形叫做不等式的同解变形。

(2) 解分式不等式的关键是将其变形为同解不等式

$$\frac{f(x)}{g(x)}>0(<0) \Leftrightarrow f(x)\cdot g(x)>0(<0); \quad \frac{f(x)}{g(x)}\geq 0(\leq 0) \Leftrightarrow \begin{cases} f(x)\cdot g(x)\geq 0(\leq 0), \\ g(x)\neq 0 \end{cases}$$

3. 高次不等式

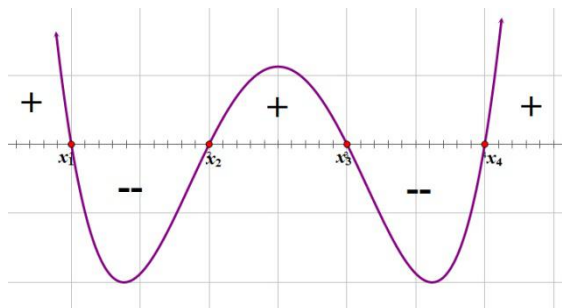
(1) 只含有一个未知数，并且未知数的最高次数大于 2 的整式不等式称为高次不等式。

(2) 解形如 $(x-a_1)(x-a_2)(x-a_3)\dots(x-a_n)>0(<0)$ 的高次不等式，

令 $f(x)=(x-a_1)(x-a_2)(x-a_3)\dots(x-a_n)$ ，其中 $a_1<a_2<a_3<\dots<a_n$ ，显然当 $x>a_n$ 时，

$f(x)>0$ ；当 $x\in(a_{n-1}, a_n)$ 时， $f(x)<0$ ；当

$x\in(a_{n-2}, a_{n-1})$ 时， $f(x)>0$ ；……：由此可得



$(x-a_1)(x-a_2)(x-a_3)\dots(x-a_n) > 0 (< 0)$ 的解集.

(3)上述过程在数轴上形象地表示出来,称为数轴标根法.

(4)步骤归纳

①将不等式化为 $(x-a_1)(x-a_2)(x-a_3)\dots(x-a_n) > 0 (< 0)$ 形式,使各因式 x 的最高次项系数为正.

②求根,并在数轴上表示出来

③由右上方穿线,经过数轴上表示各根的点,看图像写出解集,注意奇次根穿透,偶次根不穿透.

4.绝对值不等式

(1)绝对值:一个数在数轴上所对应的点到原点的距离.

①代数意义: $|a| = \begin{cases} a, a > 0, \\ 0, a = 0, \\ -a, a < 0 \end{cases}$

②几何意义: $|a|$ 表示实数 a 所对应的点到原点的距离,进一步地, $|a-b|$ 表示实数 a 所对应的点到 b 对应的点的距离.

(2)同解不等式:

①当实数 $a > 0$ 时, $|x| < a \Leftrightarrow -a < x < a, |x| > a \Leftrightarrow x < -a$ 或 $x > a$.

② $|f(x)| < g(x) \Leftrightarrow -g(x) < f(x) < g(x)$, $|f(x)| > g(x) \Leftrightarrow f(x) > g(x)$ 或 $f(x) < -g(x)$.

③ $|f(x)| > |g(x)| \Leftrightarrow f^2(x) > g^2(x)$

【例题解析】

*1.解下列分式不等式

(1) $\frac{2x+1}{x-1} \geq 0$; (2) $\frac{2x+1}{x-2} \geq 4$; (3) $\frac{x+8}{x^2+2x+3} \leq 2$; (4) $\frac{1}{2x-1} < \frac{1}{2x+1}$.

解: (1) $x \in (-\infty, -\frac{1}{2}] \cup (1, +\infty)$; (2) $x \in (2, \frac{9}{2}]$; (3) $x \in (-\infty, -2] \cup [\frac{1}{2}, +\infty)$; (4) $x \in (-\frac{1}{2}, \frac{1}{2})$.

****2.含参数方程和不等式**

(1)当 m 为何实数时, 关于 x 的方程 $m(x-3)=3(x+1)$ 的解 ①为正数; ②在 $[1,2)$ 范围内.

解: ① $m \in (-\infty, -1) \cup (3, +\infty)$; ② $m \in (-9, -3]$.

(2)当实数 $a \neq 0$ 时, 解关于 x 的不等式 $\frac{a(x-1)}{x-2} > 1$.

解: $a < 0$ 时 $x \in (\frac{a-2}{a-1}, 2)$; $0 < a < 1$ 时 $x \in (2, \frac{a-2}{a-1})$;

$a = 1$ 时 $x \in (2, +\infty)$; $a > 1$ 时 $x \in (-\infty, \frac{a-2}{a-1}) \cup (2, +\infty)$.

****3.解下列高次方程**

(1) $(1-x)(x+1)(x-2) > 0$; (2) $x^3 + 3x^2 \geq 2x + 6$;

(3) $(x+2)^2(x-1)^3(x+1)(x-2) < 0$; (4) $\frac{x(x+1)^2(x-2)}{(x-3)^3(x-5)} \leq 0$;

(5) $x \geq \frac{1}{x}$;

(6) $(x+5)(x+2)(x-1)(x-4) + 80 \leq 0$.

解(1) $x \in (-\infty, -1) \cup (1, 2)$; (2) $x \in [-3, -\sqrt{2}] \cup [\sqrt{2}, +\infty)$;

(3) $x \in (-\infty, -2) \cup (-2, -1) \cup (1, 2)$; (4) $x \in \{-1\} \cup [0, 2] \cup (3, 5)$; (5) $x \in [-1, 0) \cup [1, +\infty)$;

(6) $x \in [-4, \frac{-1-\sqrt{41}}{2}] \cup [\frac{-1+\sqrt{41}}{2}, 3]$.

****4.解下列绝对值不等式(定义法)**

$$(1) 3 \leq |2x-1| < 7;$$

$$(2) |x^2 - 5x + 5| \leq 1.$$

$$(3) |x^2 - 2x| < \frac{1}{2}x;$$

$$(4) 5|x+2| > 3x+14.$$

解：(1) $x \in (-3, -1] \cup [2, 4)$ ；(2) $x \in [1, 2] \cup [3, 4]$ ；(3) $x \in (\frac{3}{2}, \frac{5}{2})$ ；

(4) $x \in (-\infty, -3) \cup (2, +\infty)$.

*****5.解下列绝对值不等式(零点分段法)**

$$(1) |x+2| + |x-1| < 4;$$

$$(2) x^2 - 2|x| - 15 > 0$$

解：(1) $x \in (-\frac{5}{2}, \frac{3}{2})$ ；(2) $x \in (-\infty, -5) \cup (5, +\infty)$.

****6.解下列绝对值不等式(两边平方法)**

$$(1) |3x-1| \leq |x+2|;$$

$$(2) \left| \frac{x+2}{3x-1} \right| \geq 1.$$

解：(1) $x \in [-\frac{1}{4}, \frac{3}{2}]$ ；(2) $x \in [-\frac{1}{4}, \frac{1}{3}) \cup (\frac{1}{3}, \frac{3}{2}]$.

7.恒成立问题

*****(1)**当实数 a 为何值时， $-3 < \frac{3x^2 + ax + 6}{x^2 - x + 1} \leq 6$ 恒成立.

*****(2)**如果不等式 $|x+1| + |x+2| \geq m$ 对任意 $x \in R$ 恒成立，求实数 m 的取值范围.

*** (3) $|x+1| + |x+2| < m$ 的解是非空集合, 求实数 m 的取值范围.

*** (4) 不等式 $|x+3| - |x-1| \leq a^2 - 3a$ 对任意 $x \in R$ 恒成立, 求实数 a 的取值范围.

**** (5) 关于 x 的不等式 $|\frac{x^2 - kx + 1}{x^2 + x + 1}| < 3$ 的解集为 R , 求实数 k 的取值范围.

**** (6) 不等式 $|x+1| \geq kx$ 对任意 $x \in R$ 恒成立, 求实数 k 的取值范围.

解: (1) $a = -6$; (2) $m \leq 1$; (3) $m > 1$; (4) $a \in (-\infty, -1] \cup [4, +\infty)$; (5) $k \in (-5, -1)$;

(6) $k \in [0, 1]$.

三、基础训练

1. 解下列不等式

$$**(1) \frac{x+1}{2x-3} < 1; \quad ** (2) x \geq \frac{1}{x}; \quad *** (3) \frac{x^2 + 2x - 2}{3 + 2x - x^2} < x.$$

解: (1) $x \in (-\infty, \frac{3}{2}) \cup (4, +\infty)$; (2) $x \in [-1, 0) \cup [1, +\infty)$; (3) $x \in (-1, 2) \cup (3, +\infty)$.

2. 解下列不等式

** (1) $(x+4)(x+5)^2(2-x)^3 < 0$; ** (2) $\frac{3x-5}{x^2+2x-3} \leq 2$.

解: (1) $x \in (-\infty, -5) \cup (-5, -4) \cup (2, +\infty)$; (2) $x \in (-\infty, -3) \cup [-1, \frac{1}{2}] \cup (1, +\infty)$.

***3. 若关于 x 的不等式 $ax - b > 0$ 的解集为 $(1, +\infty)$, 求关于 x 的不等式 $\frac{ax+b}{x-2} > 0$ 的解集.

解: $x \in (-\infty, -1) \cup (2, +\infty)$.

***4. 解关于 x 的不等式 $\frac{a(x+1)}{x} > 1$.

解: 当 $a < 1$ 时 $x \in (0, \frac{a}{1-a})$; 当 $a = 1$ 时 $x \in (0, +\infty)$; 当 $a > 1$ 时 $x \in (-\infty, \frac{a}{1-a}) \cup (0, +\infty)$.

***5. 关于 x 的不等式 $|ax+2| < 6$ 的解集为 $(-1, 2)$, 求关于 x 的不等式 $\frac{x}{ax+2} \leq 1$ 的解集.

解: $x \in (-\infty, \frac{2}{5}] \cup (\frac{1}{2}, +\infty)$.

**6. 求下列不等式的解集

(1) $|\frac{x+1}{x+2}| > 1$; (2) $\frac{1}{|2x-3|} > 2$; (3) $|\frac{x}{1+x}| > \frac{x}{1+x}$; (4) $|x^2 - 5x + 10| > x^2 - 18$.

解: (1) $x \in (-\infty, -2) \cup (-2, -\frac{3}{2}]$; (2) $x \in (\frac{5}{4}, \frac{3}{2}) \cup (\frac{3}{2}, \frac{7}{4})$; (3) $x \in (-1, 0)$;

(4) $x \in (-\infty, \frac{28}{5})$.

***7.若存在实数 x 使 $|x-a| + |x-1| \leq 3$ 成立, 求实数 a 的取值范围.

解: $a \in [-2, 4]$.

***8.当 $a > 0$ 时, 求不等式 $|\frac{ax-1}{x}| > a$ 的解集.

解: $x \in (-\infty, 0) \cup (0, \frac{1}{2a})$.

**9.若关于 x 的不等式 $|a| \geq |x+1| + |x-2|$ 存在实数解, 求实数 a 的取值范围.

解: $a \in (-\infty, -3] \cup [3, +\infty)$

***10.已知关于 x 的不等式 $|x-a| < |x| + |x+1|$ 的解集为 \mathbb{R} , 求实数 a 的取值范围.

解: $a \in (-1, 0)$

四、拓展提高

***1.解无理不等式: $\sqrt{3x-4} > \sqrt{x-3}$; $\sqrt{5-4x-x^2} \geq x$.

解: $x \in [3, +\infty)$; $x \in [-5, -1 + \frac{\sqrt{14}}{2}]$;

***2.已知不等式 $\frac{(x-a)(x-b)}{x-c} \geq 0$ 的解集为 $[-1, 2] \cup (3, +\infty)$, 求不等式

$\frac{x-c}{(x-a)(x-b)} \leq 0$ 的解集.

解: $x \in (-\infty, -1) \cup (2, 3]$;

***3.若 $\frac{x^2 - (a+a^2)x + a^3}{x^2 + 4x + 3} < 0$ 的解集是 $\{x | -1 < x < 9\}$, 求实数 a 的值.

解: $a = -3$.

****4. 已知集合 $M = \{x \mid \frac{ax-5}{x^2-a} < 0\}$ ，若 $3 \in M, 5 \notin M$ ，求实数 a 的取值范围.

解: $a \in [1, \frac{5}{3}) \cup (9, 25]$

****5. 设 $a \in R$ ，若 $x > 0$ 时均有 $[(a-1)x-1](x^2-ax-1) \geq 0$ ，求 a 的值.

解: $a = \frac{3}{2}$

*****6. 设集合 $A = \{x \mid |x - \frac{1}{2}(a+1)| \leq \frac{1}{2}(a-1)\}$, $B = \{x \mid x^2 - 3(a+1)x + 2(3a+1) \leq 0\}$,

若果 $A \subseteq B$ ，求实数 a 的取值范围.

解: $a \in \{-1\} \cup [1, 3]$.

五、回家作业

1. 不等式 $\frac{x-3}{2-x} > 0$ 的解集为_____； $x \in (2, 3)$

2. 设集合 $A = \{x \mid \frac{x-1}{3-x} \leq 2\}$ ，那么 $\delta_R A =$ _____ $(-\infty, \frac{7}{3}] \cup (3, +\infty)$

3. 若不等式 $\frac{x^2 - 8x + 24}{mx^2 - mx - 1} < 0$ 对一切 $x \in R$ 恒成立，则实数 m 的取值范围是_____

$m \in (-4, 0]$

4. 不等式 $\frac{(x-1)(x+2)}{x-2} \geq 0$ 的解集为_____； $[-2, 1] \cup (2, +\infty)$

5. 关于 x 的不等式 $|x-2| < 3$ 的解集为_____ $(-1, 5)$

6. 若 $|\frac{2x-1}{x+1}| = \frac{2x-1}{x+1}$ ，则实数 x 的取值范围是_____.

解： $(-\infty, -1) \cup [\frac{1}{2}, +\infty)$

7. 下列不等式中与不等式 $\frac{x-3}{x-2} \geq 0$ 同解的是()D

A. $(x-2)(x-3) \geq 0$ ； B. $(x-2)(x-3) \geq 0$ 或 $x \neq 2$ ；

C. $(x-2)(x-3) > 0$ 且 $x = 3$ ； D. $(x-2)(x-3) > 0$ 或 $x = 3$.

8. 不等式 $x < \frac{1}{x}$ 的解集为()D

A. $(0, 1)$ ； B. $(-\infty, -1)$ ； C. $(-\infty, 1)$ ； D. $(-\infty, -1) \cup (0, 1)$.

9. 不等式 $|x^2 - 3x + 2| > x^2 - 3x + 2$ 的解集为()C.

A. R ； B. \emptyset ； C. $(1, 2)$ ； D. $(-\infty, 1) \cup (2, +\infty)$.

10. 解不等式： $\frac{x+8}{x^2+2x+3} < 2$.

解: $x \in (-\infty, -2) \cup (\frac{1}{2}, +\infty)$

11. 若关于 x 的不等式 $ax > b$ 的解集是 $(-\infty, -1)$, 求关于 x 的不等式 $\frac{ax+b}{x-3} > 0$ 的解集.

解: $x \in (1, 3)$

12. 若不等式 $|x+1| - |x-2| > m$ 的解集为 \mathbb{R} , 求实数 m 的取值范围.

解: $m < -3$

第 11 讲 基本不等式

【知识点总结】

1、基本不等式原始形式

(1) 若 $a, b \in \mathbb{R}$, 则 $a^2 + b^2 \geq 2ab$ (2) 若 $a, b \in \mathbb{R}$, 则 $ab \leq \frac{a^2 + b^2}{2}$

2、基本不等式一般形式 (均值不等式)

若 $a, b \in \mathbb{R}^*$, 则 $a + b \geq 2\sqrt{ab}$

3、基本不等式的两个重要变形

(1) 若 $a, b \in \mathbb{R}^*$, 则 $\frac{a+b}{2} \geq \sqrt{ab}$ (2) 若 $a, b \in \mathbb{R}^*$, 则 $ab \leq \left(\frac{a+b}{2}\right)^2$

总结: 当两个正数的积为定植时, 它们的和有最小值;

当两个正数的和为定植时, 它们的积有最小值;

特别说明: 以上不等式中, 当且仅当 $a = b$ 时取 “=”

4、求最值的条件: “一正, 二定, 三相等”

5、常用结论

(1) 若 $x > 0$, 则 $x + \frac{1}{x} \geq 2$ (当且仅当 $x = 1$ 时取 “=”)

(2) 若 $x < 0$, 则 $x + \frac{1}{x} \leq -2$ (当且仅当 $x = -1$ 时取 “=”)

(3) 若 $ab > 0$, 则 $\frac{a}{b} + \frac{b}{a} \geq 2$ (当且仅当 $a = b$ 时取 “=”)

(4) 若 $a, b \in R$, 则 $ab \leq \left(\frac{a+b}{2}\right)^2 \leq \frac{a^2+b^2}{2}$

(5) 若 $a, b \in R^*$, 则 $\frac{1}{\frac{1}{a} + \frac{1}{b}} \leq \sqrt{ab} \leq \frac{a+b}{2} \leq \sqrt{\frac{a^2+b^2}{2}}$

特别说明：以上不等式中，当且仅当 $a = b$ 时取 “=”

6、柯西不等式

(1) 若 $a, b, c, d \in R$, 则 $(a^2 + b^2)(c^2 + d^2) \geq (ac + bd)^2$

(2) 若 $a_1, a_2, a_3, b_1, b_2, b_3 \in R$, 则有：

$$(a_1^2 + a_2^2 + a_3^2)(b_1^2 + b_2^2 + b_3^2) \geq (a_1b_1 + a_2b_2 + a_3b_3)^2$$

(3) 设 a_1, a_2, \dots, a_n 与 b_1, b_2, \dots, b_n 是两组实数，则有

$$(a_1^2 + a_2^2 + \dots + a_n^2)(b_1^2 + b_2^2 + \dots + b_n^2) \geq (a_1b_1 + a_2b_2 + \dots + a_nb_n)^2$$

二、例题分析

题型一：利用基本不等式证明不等式

*例 1、(1) 已知 $ab > 0$, 求证： $\frac{b}{a} + \frac{a}{b} \geq 2$, 并指出等号成立的条件.

(2) 若 $ab < 0$, 则代数式 $\frac{b}{a} + \frac{a}{b}$ 的取值范围是什么？

(3) 若 $ab \neq 0$, 则代数式 $\frac{b}{a} + \frac{a}{b}$ 的取值范围是什么？ $\left| \frac{b}{a} + \frac{a}{b} \right|$ 呢？

**例 2、已知 a, b, c 为两两不相等的实数，求证： $a^2 + b^2 + c^2 > ab + bc + ca$

**例 3、已知 $a, b, c \in R^+$, 且 $a + b + c = 1$, 求证： $(1-a)(1-b)(1-c) \geq 8abc$

题型二：利用不等式求函数值域

*例 4、求下列函数的值域

$$(1) y = 3x^2 + \frac{1}{2x^2} \quad (2) y = x(4-x) \quad (3) y = x + \frac{1}{x} (x > 0)$$

解： $2\sqrt{3}; (-\infty, 4]; [2, +\infty);$

题型三：利用不等式求最值 (一) (凑项)

*例 5、已知 $x > 2$ ，求函数 $y = 2x - 4 + \frac{4}{2x - 4}$ 的最小值；

解：4；

变式：已知 $x > 2$ ，求函数 $y = 2x + \frac{4}{2x - 4}$ 的最小值；

解：8；

**例 6、(1) $0 < x < 1$ 时， $u = x(1-x)$ 的最大值为 $\frac{1}{4}$ 。

(2) 若 $0 < x < \frac{1}{2}$ ，函数 $y = x(1-2x)$ 的最大值为 $\frac{1}{8}$ 。

(3) 设 $x, y \in R^+$ ，且 $x^2 + \frac{y^2}{2} = 1$ ，则 $x \cdot \sqrt{1+y^2}$ 的最大值为 $\frac{3\sqrt{2}}{4}$ 。

题型四：利用不等式求最值 (二)

***例 7、求函数 $y = \sqrt{2x-1} + \sqrt{5-2x} (\frac{1}{2} < x < \frac{5}{2})$ 的最大值；

(提示：平方，利用基本不等式)

解： $2\sqrt{2}$

****例 8、已知 $x, y > 0$ ， $x + 2y + 2xy = 8$ ，求 $x + 2y$ 最小值；

解：4

题型五：巧用“1”的代换求最值问题

**例 9、已知 $a, b > 0, a + 2b = 1$ ，求 $t = \frac{1}{a} + \frac{1}{b}$ 的最小值；

解: $3 + 2\sqrt{2}$

变式 1: 已知 $a, b > 0, a + 2b = 2$, 求 $t = \frac{1}{a} + \frac{1}{b}$ 的最小值;

解: $\frac{3+2\sqrt{2}}{2}$

变式 2: 已知 $x, y > 0, \frac{2}{x} + \frac{8}{y} = 1$, 求 xy 的最小值;

解: 64

***例 10、若 $a, b, x, y \in R^+$ 且 $\frac{a}{x} + \frac{b}{y} = 1$, 求 $x + y$ 的最小值;

解: 16

题型六: 分离换元法求最值 (了解)

***例 11、求函数 $y = \frac{x^2 + 7x + 10}{x + 1}$ ($x \neq -1$) 的值域;

解: $(-\infty, 1) \cup [9, +\infty)$

***例 12、求函数 $y = \frac{\sqrt{x+2}}{2x+5}$ 的最大值; (提示: 换元法)

解: $\frac{\sqrt{2}}{4}$

三、基础训练

*1. 已知 $x > \frac{5}{4}$, 求函数 $y = 4x - 2 + \frac{1}{4x-5}$ 的最小值;

解: 5

**2. 求函数 $y = \sqrt{4x-3} + \sqrt{11-4x}$ ($\frac{3}{4} < x < \frac{11}{4}$) 的最大值;

解: 4

**3. 若 $x, y > 0$ 且 $2x + y = 1$, 求 $\frac{1}{x} + \frac{1}{y}$ 的最小值; 解: (1) $3 + 2\sqrt{2}$

**5. 若 $0 < x < 4$, 求 $y = \sqrt{x(8-2x)}$ 的最大值;

解: 8

***6. 求函数 $y = \frac{\sqrt{x+1}}{4x+9}$ 的最大值; 解: $\frac{\sqrt{5}}{20}$

***7. 已知 $a, b > 0$, 满足 $ab = a + b + 3$, 求 ab 范围;

解: $[9, +\infty)$

***4. 已知 $a + b + c = 1$, 求证: $a^2 + b^2 + c^2 \geq \frac{1}{3}$

四、拓展提高

****1. (1) 在周长保持不变的条件下, 何时矩形的面积最大?

(2) 在面积保持不变的条件下, 何时矩形的周长最小?

解: (1) 设矩形的长、宽分别为 a, b ($a, b \in \mathbb{R}^+$) 且 $a + b = m$ (定值), 则同样周长的正方形的边长为 $\frac{a+b}{2}$. 矩形面积 $S = ab$, 正方形面积 $S' = \left(\frac{a+b}{2}\right)^2$

由基本不等式 2, 得 $\frac{a+b}{2} \geq \sqrt{ab}$, 又由不等式的性质得 $\left(\frac{a+b}{2}\right)^2 \geq (\sqrt{ab})^2$, 即 $S' \geq S$.

由题意, $a + b = m$ (定值), 所以 $S \leq \left(\frac{m}{2}\right)^2 = \frac{m^2}{4}$ (定值). 当且仅当 $a = b$, 即矩形为正方形时, 矩形的面积最大.

(2) 解: 设矩形的长、宽分别为 a, b ($a, b \in \mathbb{R}^+$) 且 $ab = m$ (定值), 则同样面积的正方形的边长为 \sqrt{ab} . 矩形周长 $C = 2(a+b)$, 正方形周长 $C' = 4\sqrt{ab}$.

由基本不等式 2, 得 $\frac{a+b}{2} \geq \sqrt{ab}$, 又由不等式的性质得 $2(a+b) \geq 4\sqrt{ab}$, 即 $C \geq C'$.

由题意, $ab = m$ (定值), 所以 $C \geq 4\sqrt{m}$ (定值). 当且仅当 $a = b$, 即矩形为正方形时, 矩形的周长最小.

****2. 已知 $a, b > 0$, 求 $\frac{1}{a} + \frac{1}{b} + 2\sqrt{ab}$ 的最小值;

解： 4

*****3. 如果 $a > b > 0$ ，求关于 a, b 的表达式 $a^2 + \frac{1}{ab} + \frac{1}{a(a-b)}$ 的最小值；

解： 12

*****4. 设正实数 x, y, z 满足 $x^2 - 3xy + 4y^2 - z = 0$ ，则当 $\frac{xy}{z}$ 取得最大值时， $\frac{2}{x} + \frac{1}{y} - \frac{2}{z}$ 的

最大值为 (B)

A. 0 B. 1 C. $\frac{9}{4}$ D. 3

(提示：代入换元，利用基本不等式以及函数求最值)

*****5. 设 x, y, z 是正数，满足 $x - 2y + 3z = 0$ ，求 $\frac{y^2}{xz}$ 的最小值；

解： 3

***6. 设 a, b, c 均为正数，且 $a + b + c = 1$ ，证明：

(I) $ab + bc + ca \leq \frac{1}{3}$ ； (II) $\frac{a^2}{b} + \frac{b^2}{c} + \frac{c^2}{a} \geq 1$.

五、回家作业

*1. “ $a > b > 0$ ”是“ $ab < \frac{a^2 + b^2}{2}$ ”的 (A)

A. 充分而不必要条件 B. 必要而不充分条件
C. 充分必要条件 D. 既不充分也不必要条件

*2. 下列各式中，最小值为 2 的是 (D)

A. $x + \frac{1}{x}$ B. $\sqrt{x^2 + 3} + \frac{1}{\sqrt{x^2 + 3}}$ C. $\frac{x}{y} + \frac{y}{x}$ D. $x - 2\sqrt{x} + 3$

*3. (1) 若 $ab = 1$ ，求 $a^2 + b^2$ 和 $a + b$ 的取值范围。

(2) 若 $a + b = 1$ ，求 ab 和 $a^2 + b^2$ 的取值范围。

*4. 求函数 $y = x + \frac{1}{x} (x < 0)$ 的值域 解: $(-\infty, -2]$

*5. 已知 $x < 2$, 求函数 $y = 2x + \frac{4}{2x-4}$ 的最大值;

解: 0;

**6. 已知 $x, y > 0$, 且 $\frac{1}{x} + \frac{1}{y} = 9$, 求 $x + y$ 的最小值。

解: 4/9

**7. 已知 $x, y > 0$, 且 $\frac{1}{x} + \frac{9}{y} = 4$, 求 $x + y$ 的最小值;

解: 4

***8. 求函数 $y = \frac{x^2 + 8}{x-1} (x > 1)$ 的值域;

解: 8

***9. 已知 $x, y \in R^+$, $xy = x + y + 1$, 求 $x + y$ 的取值范围。

解: $x + y \geq 2\sqrt{2} + 2$

**10. 证明不等式: $a, b, c \in R^+$, 求证 $a + b + c \geq \sqrt{ab} + \sqrt{bc} + \sqrt{ac}$;

第 12 讲 函数的概念

二【典型例题】

例一. 1. (1) 是; (2) 不是 2. D 3. D

例二. 1. B

2. (1) $(-1, 0) \cup (0, 1)$; (2) $(1, 3)$; (3) $\left[-\sqrt{3}, -\frac{\sqrt{2}}{2}\right] \cup \left[\frac{\sqrt{2}}{2}, \sqrt{3}\right]$

例三. 1. -26

2. $f(x) = x^2 + x - 2$

3. $f(x) = \frac{1}{2}x^2 + x + \frac{3}{2}$

例四. 1. $y = x - 2160 (x > 2700)$

2. $y = -\left(2 + \frac{\pi}{2}\right)x^2 + lx, \left(0 < x < \frac{l}{\pi + 2}\right)$

三. 基础训练

1. D 2. B 3. C

4. (1) $(-\infty, -1) \cup (-1, 0) \cup (0, +\infty)$; (2) $\{x | x < 0, x \neq -1\}$;

(3) $\left[-\frac{2}{3}, 6\right]$; (4) $[-2, 1) \cup (1, 5]$

5. $f(x) = \frac{2x+1}{3x-7}$

四. 拓展提高

1. 1, 2, -1

2. $f(x+1) = 3x+4$

3. $\{12, 13, 14\}$

4. 15

5. $f(x) = x^3 - 3x, (|x| \geq 2)$

6. $f(x) = \frac{x^2}{2} + \frac{x}{2}$

五. 回家作业

1. $y = \frac{c-a}{b-c} \cdot x, (x > 0)$

2. $y = x - 2160 (x > 2700)$

3. $y = -\left(2 + \frac{\pi}{2}\right)x^2 + lx, \left(0 < x < \frac{l}{\pi + 2}\right)$

4. $y = 6x + \frac{3456}{x} + 480$, 当长度 $x = 24$ 时最省

5. $S = -x^2 + 15x, (0 < x < 15)$

第 13 讲 函数的运算

二. 【典型例题】

例 1、 $F(x) = \sqrt{x+1}, (x > 1)$

例 2、 $f(x) \cdot g(x) = -\frac{1}{\sqrt{3+2x-x^2}}, (-1 \leq x \leq 3)$

例 3. $\left[-\frac{1}{2a}, \frac{1}{2a}\right]$

例 4、 $f(x) = \frac{2}{x} - x$

例 5. 1000

三. 基础训练

1. $\frac{1}{\sqrt{x-1}}, (1 < x \leq 2)$

2. $\sqrt{\frac{x-3}{x-5}}, (x < 2 \text{ 或 } x > 5)$

3. 略

4. $f_1(x) = x^2 + x, f_2(x) = -x^2$

四. 拓展提高

1、 $f(x) + g(x) = \begin{cases} \sqrt{3-x} + x - 1, & x \leq -1 \\ 0, & -1 < x \leq 1 \\ \sqrt{x-1} + 1 - x, & x > 1 \end{cases}$

2、 $f(x) = \frac{2}{x} - x$

3. $F(x) = 3x + \frac{5}{x}$

4. $\left[-\frac{3}{2}, 0\right]$

5. $h(x) = \begin{cases} \frac{x^2}{x-1}, & x \neq 1 \\ 1, & x = 1 \end{cases}$, 值域 $(-\infty, 0] \cup \{1\} \cup [4, +\infty)$

五. 回家作业

一、填空题

1. $[-1,1]$

2. $\sqrt{x}, (x \geq 0 \text{ 且 } x \neq 1)$

3. $f(x) + g(x) = \begin{cases} \sqrt{x} + \frac{4-x}{\sqrt{x+2}}, & x > 1 \\ -\sqrt{x} + \frac{4-x}{\sqrt{x+2}}, & 0 \leq x < 1 \end{cases}$

4. $\{1\}$

5. 充分非必要

6. $[-b, b]$

7. $[-a, a]$

二、选择题

8. C

三、解答题

9. $F(x) = x(x-1), (x \geq 1)$

10. $F(3) = \sqrt{2} - 2, F(-3) = -2; F(x) = \begin{cases} x-1 + \sqrt{1-x}, & x \leq -1 \\ 0, & -1 < x \leq 1 \\ \sqrt{x-1} + 1 - x, & x > 1 \end{cases}$

第 14 讲 函数的奇偶性

例一. (1) 偶; (2) 奇; (3) 奇; (4) 奇; (5) 奇; (6) 奇

例二. 略

例三. 1. $\frac{1}{3}$

2. $[-10, 2]$

3. $a = 1$

例四. 1. A 2. C 3. C 4. -4 5. -3

例五. 奇偶函数中的分段问题

1. -3

2. $f(x) = x|x+2|, x < 0$

3. -45

4. 24

5. $(-\infty, -1) \cup (3, +\infty)$

例六 奇函数的特殊和性质

1. 4

2. 0

3. -26

4. $\frac{4}{3}$

例七 函数奇偶性的结合性质

1. C 2. A

3. $f(x) = \frac{1}{x^2 - 1}, g(x) = \frac{x}{x^2 - 1}$

三. 基础训练

1. 1 2. 4 3. -10 4. -4

4. (1) 奇; (2) 偶; (3) 偶; (4) 非奇非偶; (5) 偶;

(6) 奇; (7) 既奇又偶; (8) 偶; (9) 偶; (10) 偶

5. $(-1, 0) \cup (0, 1)$

6. $(-1, 3)$

7. $\left[\frac{1}{2}, \frac{2}{3}\right)$

四. 拓展提高

1. D 2. 0 3. 0 4. $f(x) = \frac{x}{x^2+1}$ 5. $x(1-\sqrt[3]{x})$

6. $-x^2+x+1$ 7. 1 8. 0

五. 回家作业

1. 0

2. 4

3. 9

4. $\frac{1}{2}$

5. 0

6. -2

7. A

8. A

9. 0

10. 3

11. 略

12. -1; -7

13. 0

第 16 讲 函数的单调性

二. 典型例题

例 1: (1) $(-\infty, 0)$ 递增, $(0, +\infty)$ 递减

(2) $(-\infty, 0)$ 和 $(0, +\infty)$ 分别递减

(3) $(-\infty, 0)$ 和 $(0, +\infty)$ 分别递减

(二) 证明函数的单调性:

例 2: 略

例 3: 不是

(三) 较复杂函数的单调性证明:

例 4: $(0, 1)$ 递增, $(1, +\infty)$ 递减

例 5: (证明略)

例 6: (1) $[-1, 1]$ (2) $[1, +\infty)$ (3) $(-\infty, -1)$ 和 $(0, 1)$

(四) 已知函数单调性, 求参数范围:

例 7: (1) -16

(2) $m \leq -16$

例 8: $a \in (0, 1)$

三. 基础训练

1. C 2. D 3. B 4. B 5. B 6. A

7. D 8. C 9. C 10. A 11. B 12. A

四. 拓展提高

1. $(-2, 2)$

2. $[0, 1]$

3. $(-5, -4) \cup (4, 5)$

4. $(0, +\infty)$

5. $(-3, 0) \cup (0, 3)$

6. B

7. B

8. $[1, 3]$

$$9. \left(-\infty, -\frac{1}{2}\right) \cup \left(\frac{1}{2}, \frac{3}{2}\right)$$

$$10. \left[-\frac{\sqrt{6}}{6}, \frac{\sqrt{6}}{6}\right]$$

五. 回家作业

1. $(0,1)$

2. 略

3. (1) 0 ; (2) 略; (3) $f(-25) < f(80) < f(11)$

4. (1) $m=4, n=6$; (2) $a \geq 0$

$$5. (1) a=0 \text{ 时, 偶; } a \neq 0 \text{ 时, 非奇非偶; } (2) f_{\min} = \begin{cases} \frac{3}{4} - a, & a \leq -\frac{1}{2} \\ a^2 + 1, & -\frac{1}{2} < a \leq \frac{1}{2} \\ \frac{3}{4} + a, & a > \frac{1}{2} \end{cases}$$

6. D